

基隆市立武崙國中 110 學年度 9 年級 社會科補考題目卷

____年____班 座號：____ 姓名：_____

一、單選題：每格 1 分、共 100 分

- () 1. 「林宥嘉全家都喜歡吃西瓜，林媽媽在夏天西瓜便宜時，每週會買四顆西瓜，但是秋天西瓜較貴時，只買一顆西瓜。」影響林媽媽消費行為的主要因素是什麼？
(A)所得水準 (B)主觀偏好 (C)商品價格 (D)預期心理
- () 2. 臺東多良車站聞名全臺，政府單位以「全臺灣最美的車站」做廣告宣傳，並同步推出 5 折旅遊優惠套票專案，此一專案推出後，果然吸引眾多遊客到此一遊。此種現象與下列哪一句話相互呼應？
(A)價格低多買 (B)價格高少買 (C)價格低少賣 (D)價格高多賣
- () 3. 連接西班牙及法國的高速鐵路，因為得穿越下列哪座山脈，使得施工的困難度增加？
(A)阿爾卑斯山 (B)庇里牛斯山 (C)斯堪地那維亞山 (D)喀爾巴阡山
- () 4. 「順著地勢往上走，林相由針闊葉混合林逐漸轉變為針葉林、高山草原……」該文所述應為歐洲境內何種氣候區的特色？
(A)草原氣候 (B)溫帶海洋性氣候 (C)高地氣候 (D)溫帶大陸性氣候
- () 5. 歐洲的「高緯與高山地區」常見冰河地形，依此推論，哪個區域和哪座山脈的冰河地形最為完整？
(A)東歐、庇里牛斯山 (B)西歐、喀爾巴阡山 (C)南歐、基阿連山 (D)北歐、阿爾卑斯山
- () 6. 追隨釋迦摩尼的信眾，應該或多或少不滿下列哪個宗教？
(A)婆羅門教 (B)印度教 (C)伊斯蘭教 (D)佛教
- () 7. 附表是小明為了完成課堂報告所蒐集、整理的資料。依照此表內容判斷，小明的報告主題是在研究下列哪個地區？


1.曾建立橫跨歐亞非的帝國

2.統治政策採寬容態度

3.相信世上是善惡二元對立

(A)希臘 (B)波斯 (C)馬其頓 (D)埃及

- () 8. 世界古文明呈現多元發展，而每個文明的代表性文物都是其文明特徵的展現，下列何者是當地中央王權的展現？



- () 9. 「耶和華神用地上的塵土造人、將生氣吹在他鼻孔裡、他就成了有靈的活人、名叫亞當。耶和華神在東方的伊甸立了一個園子、把所造的人安置在那裡。……」這個宗教直接影響另外哪個宗教出現？
(A)基督教 (B)佛教 (C)祆教 (D)印度教
- () 10. 下列何者的水源取得與其他文明不同？
(A)蘇美 (B)埃及 (C)巴比倫 (D)波斯
- () 11. 古埃及與中國一樣，對於曆法都非常重視，這是因為曆法與下列何者有著直接關聯？
(A)宗教信仰 (B)君主權力 (C)農業生產 (D)文化傳承
- () 12. 亞歷山大於佔領區建立城市，將其文化向外拓展，傳播於其征服的區域，因此締造了什麼時代？
(A)希臘化時代 (B)羅馬化時代 (C)馬其頓時代 (D)波斯化時代
- () 13. 雅典對公民的定義，與今日我國最大的差異是下列何者？
(A)年齡限制 (B)教育程度 (C)生理性別 (D)宗教信仰
- () 14. 在波希戰爭以前的歷史，我們需要透過下列哪本著作才能進一步認識？
(A)希羅多德的《歷史》 (B)荷馬的《伊利亞特》 (C)埃及的《死者之書》 (D)羅馬的《十二銅表法》
- () 15. 在古代世界，疆域橫跨歐、亞、非洲的大帝國中，統治疆域唯一擴及不列顛群島的是？
(A)波斯帝國 (B)亞歷山大帝國 (C)羅馬帝國 (D)拜占庭帝國
- () 16. 釋迦摩尼本名悉達多，身分是王子，所以應該是哪個種姓階級？
(A)婆羅門 (B)刹地利 (C)吠舍 (D)首陀羅
- () 17. 電影達文西密碼中，蘭登博士認為自從基督教被一位羅馬皇帝訂為國教之後，聖經的編寫就受到政治力量的介入。這位羅馬皇帝為下列何者？
(A)凱薩 (B)屋大維 (C)君士坦丁 (D)狄奧多西
- () 18. 主要以舊約聖經為其宗教經典的宗教為下列何者？
(A)猶太教 (B)基督教 (C)佛教 (D)祆教
- () 19. 在西亞創立的伊斯蘭教，創立之初信徒多為阿拉伯人，其主要發展的行業為下列何者？
(A)農業 (B)手工業 (C)商業 (D)工業
- () 20. 阿爾法在某本經書中看到以下內容：「今天，我已為你們成全你們的宗教，我已完成我所賜你們的恩典，我已選擇伊斯蘭做你們的宗教。」經書中的「我」應該是下列何者？
(A)耶穌 (B)穆罕默德 (C)釋迦摩尼 (D)君士坦丁
- () 21. 小美拿到傳單如附圖，依圖中內容判斷，下列敘述何者正確？

政府近期集合民間資源，嘗試推動青年與銀髮族共居，安排沒有血緣關係、不同年齡層、不同世代的人共享居住空間。

可以用比較便宜的租金入住，又有人一起聊天、看電視，滿好的！

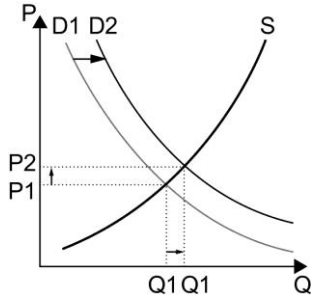
李小姐

幫年輕人打掃房子、收包裹，有點事做，不錯啊！而且我還滿需要年輕人教我新東西。

郭媽媽

(A)與不同年齡的人共同居住必然是增加成本 (B)青銀共居可使租金成本降低 (C)青銀共居可使年輕人享有銀髮族的打掃服務 (D)青銀共居可使銀髮族享有年輕人的照顧服務

() 22. 當新冠肺炎爆發的時候，我國消費者的旅遊方式也因此受到影響，請參照附圖需求與供給曲線，選出正確的敘述？



(A)國內旅遊因為需求減少，價格由 P1 移至 P2 (B)國內旅遊因為需求減少，價格由 P 移至 P2 (C)國內旅遊因為需求減少，價格由 P2 移至 P1 (D)國內旅遊因為需求減少，價格由 P2 移至 P1

() 23. 關於下表括號中的各項資源，下列敘述，何者正確？

甲	百年大旱，科學園區水情吃緊，擬以鑿井取「水」來因應
乙	霧霾嚴重下，必須利用空氣清淨機維持室內「空氣」品質
丙	相同格局的出租公寓中，曬得到「陽光」的物件租金較高
丁	研究證實，曬太陽會讓人快樂，是天然的療癒師

(A)甲為經濟財，乙、丙、丁為自由財 (B)甲、乙為經濟財，丙、丁為自由財 (C)甲、乙、丙為經濟財，丁為自由財 (D)甲、乙、丙、丁的資源皆為自由財

() 24. 附圖是早餐時，姊姊和弟弟惹爸爸生氣的情境。下列相關敘述，何者正確？



(A)「禁足」是屬於正向、非金錢誘因 (B)「禁足」對兩姊弟而言，價值相同 (C)「禁足」較易促使弟弟能有所反省 (D)「禁足」因姊弟需求不同效果有差

() 25. 小明在國中畢業後，決定要唸高職作為未來升學的管道，關於這個決定是他的何者行為？

(A)法律行為 (B)消費行為 (C)行政行為 (D)選擇行為

() 26. 當人們對於任何事物做出選擇時，會依據何種準則選出最適合自己的選項，來滿足自己的最大欲望？

(A)生產成本最高 (B)外幣匯率最低 (C)機會成本最低 (D)機會成本最高

() 27. 誘因會影響人類的行為，但人類的選擇取決於此誘因帶來的利益與何者之間的衡量呢？

(A)總成本 (B)機會成本 (C)外部成本 (D)內部成本

() 28. 我國法律規定若是騎乘機車未戴安全帽，將可罰鍰六百元，試問對於機車騎士來說，機會成本為下列何者？

(A)較快抵達目的地 (B)未戴安全帽的快感 (C)金錢損失 (D)引起旁人的注目

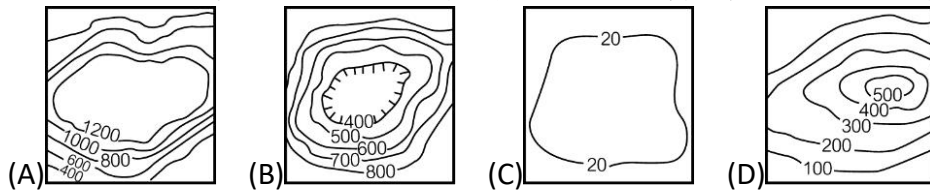
() 29. 公民老師要求全班同學交關於「誘因」的評論報告，請判斷下列各人的看法，何者最為正確？

(A)甲：誘因並不會影響人們的行為 (B)乙：誘因可分為「正向誘因」和「負向誘因」 (C)丙：金錢誘因是指提高報酬的誘因 (D)丁：負向誘因會對行為人減少懲罰

() 30. 每個人在不同情況下，其選擇會有所不同，故當我們運用誘因改變人類行為前，可以了解行為人的何項特性，比較能夠達到期望的效果？

(A)學歷與經歷 (B)背景與生長環境 (C)個性與星座 (D)需求與偏好

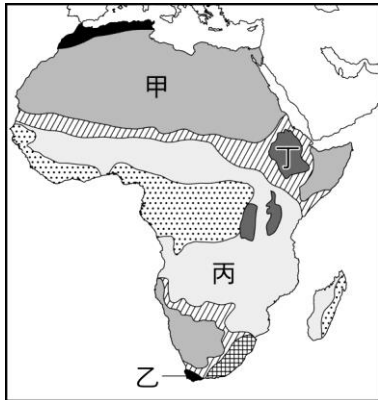
() 31. 美美在畫非洲等高線圖，在她所繪製的圖中，哪種等高線圖類型所佔比例最高？



() 32. 小馬在非洲旅遊，他發現沿途植物景觀從雨林變到莽原再變成一望無際的沙漠景觀。小馬的所在地先後應該呈現下列何種變化？

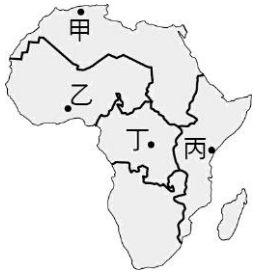
(A)經度越來越大 (B)緯度越來越高 (C)地勢越來越高 (D)溫差越來越小

() 33. 附圖為非洲的氣候區圖，非洲氣候有明顯南北對稱分布的特色，但附圖中丁區的氣候卻沒有呈現此一規律變化，影響丁區氣候的主要影響因素為何？



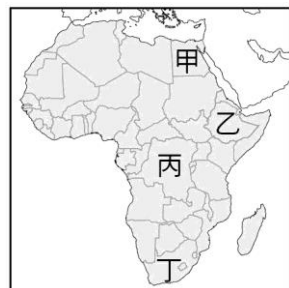
(A)緯度高低 (B)地形類型 (C)海陸差異 (D)洋流性質

() 34. 非洲坦尚尼亞的荒野上的哈扎部落是地球上僅存以狩獵、採集為生的民族之一。前往附圖中何處最可能找到哈札人的足跡？



(A)甲 (B)乙 (C)丙 (D)丁

() 35. 「剛果問題」，指的是剛果民主共和國長期內亂，所引發的國際問題。涉及的國家除了剛果民主共和國、剛果共和國外，尚有毗鄰國家如盧安達、蒲隆地、烏干達、辛巴威、安哥拉、納米比亞等剛果河流域周邊國家，這場被譽為非洲世界大戰的戰爭主要起因於下列哪一個國家發生內亂？

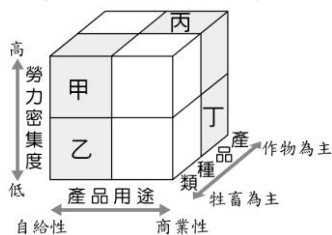


(A)甲 (B)乙 (C)丙 (D)丁

() 36. 若要研究非洲開始發展礦業的契機，除了當地本身為古老陸塊的優勢外，仍需研究下列哪個人文因素的影響？

(A)語言文化 (B)民族特性 (C)宗教信仰 (D)殖民背景

() 37. 可可是製造巧克力的原始材料，全球有 40% 可可豆來自西部非洲，西非可可的種植與當時歐洲人殖民有關，殖民者引進可可，而殖民母國掌握農場的经营權，殖民地提供土地及廉價勞工，採企業化、大規模經營。依附圖中的指標，可可種植屬於圖中哪一種農業類型？



(A)甲 (B)乙 (C)丙 (D)丁

() 38. 文藝復興的哪個特性，改變了自羅馬帝國滅亡後中世紀的價值觀念？

(A)圖畫優美 (B)雕刻壯觀 (C)以人為本 (D)方言文學

() 39. 相對於文藝復興之前的藝術作品，文藝復興時期的畫作變得更像真人。這種變化是受到下列何者的影響？

(A)以人為本 (B)因信稱義 (C)預選說 (D)天賦人權

() 40. 奠定現代國際關係基礎的三十年戰爭，起因是哪方面的衝突？

(A)王室恩怨 (B)新、舊教信仰 (C)經濟利益 (D)爭奪水源

- () 41. 馬丁路德能主張大家自己讀聖經，便可以與上帝溝通，可能是延續了文藝復興的什麼風格？
(A)以人為本 (B)商業發展 (C)文藝創作 (D)復興文化
- () 42. 科學革命是以下列哪門學科作為開端？
(A)宗教 (B)化學 (C)天文 (D)地理
- () 43. 奠定現代物理學基礎的是下列哪位科學家？
(A)哥白尼 (B)克卜勒 (C)伽利略 (D)牛頓
- () 44. 被狄德羅邀請編纂百科全書的人可能有誰？
(A)莎士比亞 (B)亨利八世 (C)羅耀拉 (D)盧梭
- () 45. 日本在戰國時代接受耶穌會的傳教，其目的是？
(A)想成為歐洲的殖民地 (B)獲取貿易利益與武器 (C)領受上帝福音 (D)與歐洲國家結盟
- () 46. 歐洲人的航海技術在十五世紀的突破，是受到什麼人的影響？
(A)日耳曼人 (B)羅馬人 (C)阿拉伯人 (D)土耳其人
- () 47. 西班牙人之所以能夠摧毀南美洲原住民帝國，除了武力、科技上的優勢之外，還有什麼因素？
(A)氣候 (B)飲食 (C)流行病 (D)宗教信仰
- () 48. 蒙兀兒帝國的末代皇帝於 1858 年被歐洲殖民者放逐，從此帝國滅亡。放逐蒙兀兒皇帝的殖民者是來自下列哪個國家？
(A)西班牙 (B)葡萄牙 (C)英國 (D)荷蘭
- () 49. 十八世紀爭奪印度控制權的各國東印度公司，最後勝出的是哪下列何國？
(A)英國 (B)法國 (C)西班牙 (D)葡萄牙
- () 50. 小明到超商購買飲料，一樣容量的運動飲料與麥香綠茶卻不同價錢。小明選擇較便宜的綠茶，他是以何者作為選擇的基礎？
(A)法律 (B)售價 (C)權力 (D)政府
- () 51. 大多數資源都是需要透過分配才可以達到穩定供給的狀況，現實生活中，人們在分配各種資源時，通常以何種分配方式為主？
(A)依人們的選擇 (B)指定使用 (C)先占先贏 (D)使用者付費
- () 52. 大雄是一個縫紉師傅，服飾店裡的衣服都是他一針一線製成。比起批發衣服，親自縫製衣服能獲取最大利潤，其中的理由最可能為何？
(A)縫製衣服的機會成本較小 (B)批發衣服的機會成本較小 (C)縫製衣服的機會成本較大 (D)批發衣服的機會成本較大
- () 53. 日常生活中總會與到許多「交易」的行為，透過交易，人們可以得到自己無法製造的東西。「交易」行為是建立在何種基礎之上？
(A)專業分工 (B)科技社會 (C)公權力 (D)使用者付費
- () 54. 隨著社會的進步，需要靠著人們的專業分工才能讓國家運作，專業分工的概念是以「何者最小」為基礎？
(A)時間成本 (B)機會成本 (C)利潤 (D)誘因
- () 55. 「交易」可以透過專業分工得到彼此需要的物品與資源，隨著地球村的來臨逐步推展到國際間，試問下列哪個國家是以擁有較佳的工業技術聞名？
(A)墨西哥 (B)巴西 (C)德國 (D)俄羅斯
- () 56. 我國製造汽車的成本高於日本，所以從日本購買汽車；而我國設計與製造高檔自行車的成本低於其他國家，故日本會向我們購買。日本向我們購買自行車的行為稱為下列何者？
(A)進口 (B)出口 (C)走私 (D)交換
- () 57. 大雄說：「我新買的鉛筆盒定價 100 元。」胖虎說：「我的鉛筆盒只要 80 元，比你買的還要便宜。」從上文對話可知，貨幣具有哪一項功能？
(A)價值儲存 (B)交易媒介 (C)價值衡量 (D)債務清償
- () 58. 右鈴用媽媽給的 500 元鈔票買了 350 元的衣服，這顯現出貨幣的哪一項功能？
(A)交易媒介 (B)價值衡量 (C)債務清償 (D)價值儲存
- () 59. 隨著網際網路的興起，電子支付成為許多人交易的方式，關於電子支付的方式，下列何者最正確？
(A)先付款，後消費 (B)先消費，後付款 (C)消費與付款並行 (D)需搭配法定貨幣使用
- () 60. 小明在逛街時，遭到竊賊盜刷他的信用卡，試問竊賊盜刷信用卡的行為，需負起何者責任？
(A)政治責任 (B)行政責任 (C)刑事責任 (D)民事責任
- () 61. 外匯市場是指在國際間從事外匯買賣，調解外匯供給與需求的交易場所，關於「匯率」的概念，下列何者正確？
(A)匯率通常不太會有波動 (B)本國匯率貶值代表本國貨幣購買力增加 (C)匯率是指一國貨幣與他國貨幣交換的比率 (D)本國匯率升值代表本國貨幣購買力下降
- () 62. 新聞報導：「每年四月到六月是報稅的季節，報稅的義務人應該要小心詐騙集團的陷阱，不應該隨便將個人資料公開……。」上述的新聞內容說明資訊科技的何項缺點？
(A)資訊公開將造成個人隱私的隱憂 (B)資訊氾濫造成內容真偽難辨 (C)青少年成為新興社會問題 (D)志願結社影響國家安全
- () 63. 小兒麻痺的病毒危害人類甚大，罹患此種病症的患者容易造成肢體障礙，幸虧科學家研究出疫苗並且預防，而降低罹患率，關於上文敘述，屬於下列何種科技概念？
(A)資訊科技 (B)航太科技 (C)生物科技 (D)奈米科技

() 64. 由於科技的發展，現代人們可以不用帶錢包即可出門，透過電子支付的方式也可進行消費，電子支付的功能與何種科技概念有關？

(A)農業科技 (B)航太科技 (C)生物科技 (D)資訊科技

() 65. 附圖中兩人的對話內容，涉及到下列哪些資源的分配方式？



(A)先占先贏、溝通協調 (B)指定使用、溝通協調 (C)先占先贏、使用者付費 (D)指定使用、使用者付費

() 66. 下列各則新聞，何者的內容呈現出「管制經濟制度」的特色？

(A)貨櫃航運公司因缺櫃潮不斷相繼宣布漲價計畫，長榮、陽明等業績看俏 (B)好市多 Tommy Hilfiger 外套，原價 3,299 元變 1,200 元，消費者瘋搶 (C)食藥署宣布實名制口罩從 14 日 9 片，增為 10 片，且每片降為 4 元 (D)資訊月正式開跑，各廠牌都有推出最新機種，價格並壓在萬元以下

() 67. 元老級網紅蔡阿嘎，從原先一個人要包辦攝影、剪輯、上字幕等，後來由於工作量大增，力有未逮，因而成立大頭佛工作室，聘請不同的人負責不同的工作內容。關於上述轉變，下列敘述何者正確？

(A)蔡阿嘎以金錢交易他人的技術與勞務是為達成自給自足的目的 (B)蔡阿嘎會想聘人分擔工作是因有些工作自己做機會成本太低 (C)蔡阿嘎工作室的人才皆專注於「機會成本較高」的工作內容 (D)蔡阿嘎透過交易之後影片的生產過程變得更加專業化

() 68. 右圖是網友在臉書上所張貼的一張 40 年前臺南小吃攤照，網友一致聚焦在均一價的價目表，感嘆道：「物價回不去了！」。由此可知，圖中的價目表發揮了下列哪一項貨幣功能？

米	粿	肉	四	米
粉	仔	丸	神	糕
鈣	湯	湯	湯	糕
15	15	15	15	15

(A)交易媒介 (B)衡量價值 (C)價值儲存 (D)債務清償

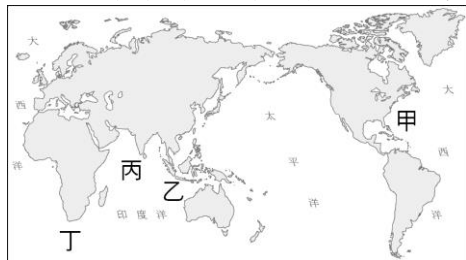
() 69. 藝人瑞莎近幾年積極投入培育臺灣韻律體操人才，但近日卻遭到抹黑募款帳目不清、搶功挖角等，引發輿論譁然。有 1 名女兒在瑞莎公司接受培訓的媽媽，挺身在網路論壇上發文，透露女兒是免費接受指導且學習環境不打折，而其他網友看了此文後秒懂瑞莎被黑的原因，就是「破壞市場行情，擋人財路」，最後抹黑文在見到風向轉為支持瑞莎後也悄悄刪除。對於上文內容，下列相關敘述，何者正確？

(A)造謠抹黑者缺乏資訊倫理的觀念 (B)造謠抹黑者侵犯了瑞莎的隱私權 (C)網友應培養媒體自律分辨假消息 (D)瑞莎投入培育人才的誘因是賺錢

() 70. 有一名都市社區高中的學生，學測成績僅達私校備取，卻透過繁星計畫成為醫大牙醫系正取生。有網友便到「公共政策網路參與平臺」發起「我國大學入學繁星計畫應增設偏遠地區之限制」提案連署，認為許多使用者是私立貴族或是都市社區高中，其學習資源已然充沛，與繁星計畫要保障弱勢學生的就學權利之初衷背離，建議教育部應該限縮門檻，防堵利用此管道鑽漏洞的人。關於上述提及的「公共政策網路參與平臺」，下列敘述何者正確？

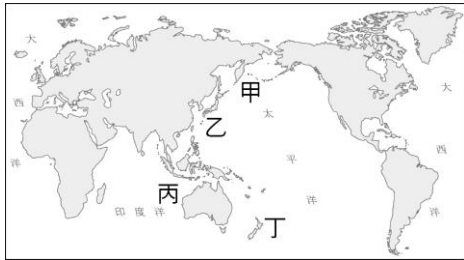
(A)是由行政院國家通訊傳播委員會所設置 (B)設置目的是為提高政府與人民間的互動與互信 (C)提案者及連署者皆須是公民，所以參與者有年齡限制 (D)平臺僅具政策建議功能，無法達到監督政府施政的目的

() 71. 17 世紀荷蘭聯合東印度公司於某地追尋香料所帶來的利潤，並於此處設立總部，請問某地為圖中何者？



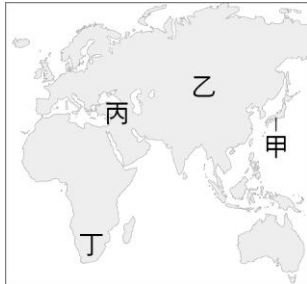
(A)甲 (B)乙 (C)丙 (D)丁

() 72. 17 世紀初荷蘭抵達太平洋某地，並將其稱為新荷蘭 (New Hollandia)，該地應為附圖中何處？



(A)甲 (B)乙 (C)丙 (D)丁

- ()73. 曾有一大帝國征服印度，建立輝煌的國度，但在 17 世紀末由盛轉衰，逐步淪為英國的殖民地，而此帝國的祖先並非印度當地人，而是由亞洲的某處而來。請問，此帝國的祖先應該是由何處發跡？




(A)甲 (B)乙 (C)丙 (D)丁

- ()74. 附圖是孟賢正在撰寫的一篇論文，此篇論文應該是在研究下列何者？

他們的外交手段圓融高明，對於文明程度較低的地區，如：印尼，他們直接殖民統治。對於文明較高的國家，他們則擺出低姿態，僅以貿易為目標，並不強要傳播自己的文明。因此在日本，他們的代表地位等同於大名，每年都可以與幕府將軍會面；在中國，他們完全接受清帝國的禮節要求，對乾隆皇帝磕頭跪拜，相對的，他們也贏得了中國高規格的禮遇與尊重。

(A)耶穌會 (B)蒙兀兒帝國 (C)英國東印度公司 (D)荷蘭東印度公司

- ()75. 保羅在法國旅遊時，參觀著名景點先賢祠，在其中看到一副獨特的棺木（如附圖一），並聽取導覽人員介紹棺木上浮雕的涵義（如附圖二）。保羅看到的這塊棺木，其中埋葬的應是哪位足以代表法蘭西精神的先賢？



這裡埋葬著一個高貴的靈魂，他的學說讓人民意識到，政府的權力來自於人民的賦予。此學說最終成為了點燃革命的火把，他的精神是法蘭西共和國最重要的財富。

附圖(二)

(A)羅耀拉 (B)伏爾泰 (C)狄德羅 (D)盧梭

- ()76. 小錡正在閱讀一篇關於一位知名歷史人物的介紹文章，並看見其中一段描述如附圖所示。根據附圖內容判斷，小錡在這篇文章中最可能會看見下列哪項敘述？

他在 1492 年揚帆啟航……新發現的消息跨過了大西洋，在歐洲引起了狂熱的興奮之情。新發現的領域和島嶼被認為是「恆河之外的印度」的一部分。

- (A)這位歷史人物成功率領船隊繞過非洲南端 (B)「恆河之外的印度」也就是今日的南美洲 (C)這位歷史人物的探險受到西班牙王室贊助 (D)這位歷史人物征服印加文明，導致其滅亡
- () 77. 歐洲與俄羅斯同在歐亞大陸上，關於這兩個地區的共同點，下列何者正確？
(A)皆屬於廣義的基督教世界 (B)皆屬於季風氣候區 (C)皆受佛教文化薰陶 (D)皆屬於同一個時區範圍
- () 78. 莉莉對建築十分有興趣，她想親眼目睹著名的南歐式建築，並列出了旅遊景點清單。下列美美列出的景點何者正確？
(A)英國的凱旋門 (B)法國的倫敦塔 (C)德國的羅浮宮 (D)義大利的比薩斜塔
- () 79. 歐洲各國間近乎零邊境管制，人民可自由往來、暢行無阻，主要是因為會員國簽訂哪一項公約方便人員自由通行？
(A)申根公約 (B)羅馬公約 (C)蒙特婁公約 (D)巴黎公約
- () 80. 歐盟有發行共同貨幣歐元，但仍有部分會員國基於經濟主權等考量，並未使用此共同貨幣。請問下列哪個會員國目前並未使用歐元？
(A)義大利 (B)德國 (C)冰島 (D)波蘭
- () 81. 俄羅斯天然資源豐富，某項資源必須通過烏克蘭境內運送至歐洲其他國家，若兩國情勢緊張，可能導致歐洲部分國家冬季暖氣不足的情況發生。根據上文所述，俄羅斯出口到歐洲的某項重要資源為下列何者？
(A)木材 (B)小麥 (C)煤 (D)天然氣
- () 82. 中南美洲除了巴西講葡萄牙語外，其他國家主要以西班牙語為主。請問巴西在附圖中何處？



- (A)甲 (B)乙 (C)丙 (D)丁
- () 83. 附圖為巴西里約熱內盧基督像與周邊城市的空拍圖，基督像位於基督山上，是世界最聞名的紀念雕塑之一。圖中耶穌像展開雙臂面臨的海洋應為下列何者？

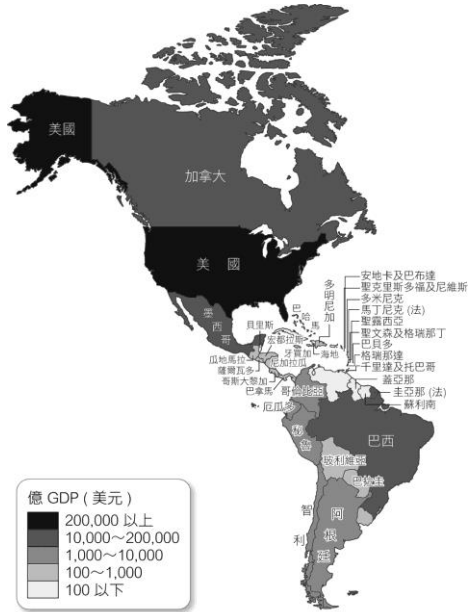


- (A)大西洋 (B)太平洋 (C)印度洋 (D)地中海
- () 84. 中南美洲有繽紛多元的文化特色，在歐洲殖民者尚未到中南美洲之前，中南美洲主要原住民是下列何者？
(A)布希曼人 (B)因紐特人 (C)阿拉伯人 (D)印第安人
- () 85. 美國西部牛仔是當代牛仔的先祖，他們以牧牛放馬維生，也是在西部蠻荒土地上的開拓者，被譽為「馬背上的英雄」。請問這個職業的出現最有可能與當地哪種氣候類型有關？
(A)溫帶海洋性氣候 (B)溫帶草原氣候 (C)夏雨型暖溫帶氣候 (D)溫帶地中海型氣候
- () 86. 美國農業呈現帶狀分布，在中部平原的部分，多種植小麥、玉米等作物，收穫的農產品以供應市場為主，請問上述的農業屬於哪種經營方式？
(A)地中海型農業 (B)熱帶栽培業 (C)商業性農業 (D)自給性農業
- () 87. NAFTA 簽訂後，對外可提升國際市場競爭力，對內可增加經濟合作，其中資金與技術的主要提供者為哪個國家？
(A)加拿大 (B)墨西哥 (C)英國 (D)美國
- () 88. 石油大國委內瑞拉經濟狀況從 2010 年開始持續惡化，治安也愈來愈糟，惡性通貨膨脹也是很大的問題。2019 年 1 月出現極高的通膨率，鈔票變成沒有價值的紙張，許多人就將紙幣折成各式各樣的手工藝品，藉以販售給觀光客謀利。根據上文所述，委內瑞拉位在附圖中何處？



(A)甲 (B)乙 (C)丙 (D)丁

- () 89. 圓圓在製作一張美洲的分層設色圖 (如附圖), 圖層的分佈特性是顏色愈深代表數值愈大, 但粗心大意的她忘記把圖名標示出來了。根據圖中內容判斷, 圓圓製作的地圖圖名可能為下列何者?



(A)美洲各國 (地區) 人口密度分布圖 (B)美洲各國 (地區) GDP 示意圖 (C)美洲各國 (地區) 雨林面積分布圖 (D)美洲各國 (地區) 鐵礦生產量分布圖

- () 90. 這個拉丁美洲最大的國家, 因農產品與鐵礦資源豐富, 勞動力充足, 加上經濟成長快速, 被稱為「金磚五國」。上述國家位於附圖中何處?



(A)甲 (B)乙 (C)丙 (D)丁

- () 91. 附表為歐盟 27 國經濟 GDP 總額排名 (2017 年, 已排除英國), 根據表中資料, GDP 總額排名後 5 名國家主要分佈於歐洲哪些地區?

前 5 名 國家	德國、法國、義大利、西班牙、荷蘭
後 5 名 國家	馬爾他、賽普勒斯、愛沙尼亞、拉脫維亞、立陶宛

(A)西歐與北歐 (B)西歐與南歐 (C)東歐與北歐 (D)東歐與南歐

- () 92. 東歐各國在 1990 年代蘇聯瓦解後, 國家政治與經濟紛紛轉型, 東歐各國轉型前後經濟狀態整理如附表。根據表中內容判斷, 下列何者正確?

	1990 年代 以前	1990 年代 以後
經濟 狀態	(甲)市場經濟	(乙)成為外資 投資區
主要貿易 對象	(丙)歐盟國家	(丁)俄羅斯

(A)甲 (B)乙 (C)丙 (D)丁

- () 93. 附圖為世界某數值的分布圖, 數值愈高則塗上顏色愈深。依圖中資料顏色判斷, 該圖可能是哪一種資料地圖?

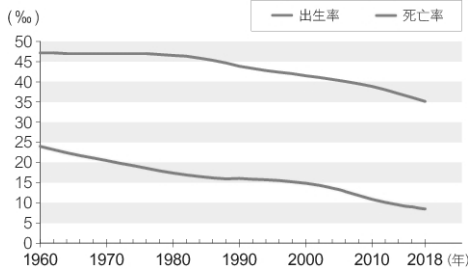


(A)世界貧窮人口比例圖 (B)世界石油分布圖 (C)世界人口比例分布圖 (D)世界水資源分布圖

() 94. 漠南非洲因為醫療資源不足、缺乏衛生知識，目前哪種疾病罹病率已是各洲之冠？

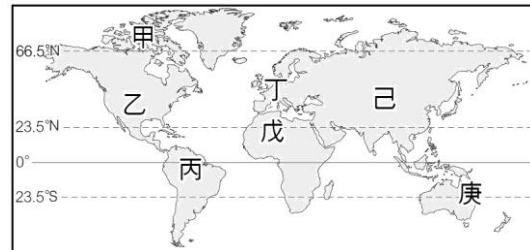
(A)禽流感 (B)流行性感冒 (C)愛滋病 (D)SARS

() 95. 附圖為 1960~2015 年非洲出生／死亡率變化圖。從圖中資料判斷，1990 到 2015 非洲人口呈現下列何種變化？



(A)總人口數增加 (B)社會增加率減少 (C)出生率下降 (D)扶養比減少

() 96. 美國前總統川普為了平衡區域貿易，在 2018 年又簽訂 USMCA，此協定又被稱為北美自由貿易協定 2.0。根據上文所述，USMCA 的成員國位於附圖中何處？



(A)甲乙丙 (B)乙丙丁 (C)丁戊己 (D)乙丙己

() 97. 世界足球盃這個全球矚目的賽事，每四年舉行一次，吸引全球 30 億人的目光，而其中的主題歌曲更是精挑萬選，要符合世足的精神而歌手夏奇拉 Shaki 在 2010 年唱的世足主題曲『Waka Waka』其中的一句歌詞：Cus this is Africa，證明了足球在非洲人心目中的地位。足球之所以可以在非洲盛行的原因，應與下列何者有關？

(A)殖民母國的影響 (B)氣候條件的影響 (C)黑人對運動的天分 (D)地形條件的影響

() 98. 附圖是某一帝國的疆域演變圖。甲區成為該帝國領土，與下列何者關係最為密切？



(A)蒙古帝國的擴張 (B)奧匈帝國的瓦解 (C)拜占庭帝國的衰亡 (D)亞歷山大帝國的崛起

() 99. 新聞報導：「……日本首相為了振興日本經濟採貨幣寬鬆政策，由日本政府大量印鈔票造成日圓不斷貶值。」根據內容判斷，請問何者敘述正確？

(A)有利於日本進口外國商品 (B)有利於他國出口商品至日本 (C)有利於日本人至他國觀光 (D)有利於外國人至日本觀光

() 100. 近年來，中國與俄羅斯共同合作「泰納線」的管線工程（如附圖），希望透過運送某種資源，以提供中國的工業發展。該資源為何？



(A)煤礦 (B)鐵礦 (C)石油 (D)稀土

一、**單選題**：每格 1 分、共 100 分

1.(C) 2.(A) 3.(B) 4.(C) 5.(D)
6.(A) 7.(B) 8.(B) 9.(A) 10.(D)
11.(C) 12.(A) 13.(C) 14.(B) 15.(C)
16.(B) 17.(D) 18.(A) 19.(C) 20.(B)
21.(B) 22.(C) 23.(C) 24.(D) 25.(D)
26.(C) 27.(B) 28.(C) 29.(B) 30.(D)
31.(A) 32.(B) 33.(B) 34.(C) 35.(C)
36.(D) 37.(C) 38.(C) 39.(A) 40.(B)
41.(A) 42.(C) 43.(D) 44.(D) 45.(B)
46.(C) 47.(C) 48.(C) 49.(A) 50.(B)
51.(D) 52.(A) 53.(A) 54.(B) 55.(C)
56.(A) 57.(C) 58.(A) 59.(B) 60.(C)
61.(C) 62.(A) 63.(C) 64.(D) 65.(C)
66.(C) 67.(D) 68.(B) 69.(A) 70.(B)
71.(B) 72.(C) 73.(B) 74.(D) 75.(D)
76.(C) 77.(A) 78.(D) 79.(A) 80.(D)
81.(D) 82.(B) 83.(A) 84.(D) 85.(B)
86.(C) 87.(D) 88.(B) 89.(B) 90.(A)
91.(D) 92.(B) 93.(A) 94.(C) 95.(C)
96.(A) 97.(A) 98.(C) 99.(D) 100.(C)