

_____年_____班 姓名: _____ 座號: _____

一、單一選擇題, 共 161 題,

框起來的選項為答案

1. () 近年來我國政府採取務實外交政策, 其主要理念與目標有哪些? (甲) 強調兩岸是分裂分治的兩個對等政治實體 (乙) 積極參加國際組織 (丙) 與美、日等國建立邦交關係 (丁) 與美國簽訂《中美共同防禦條約》 (戊) 派遣農技團協助友邦 (己) 加強與友邦的雙邊關係

- (A) 甲乙戊己 (B) 甲乙丙戊
(C) 甲乙丙丁 (D) 丙丁戊己。

2. () 「某位總統在聲明中提及:『中華民國不論在任何情況下絕對不與中共政權交涉, 並且絕對不放棄光復大陸, 與解救同胞的神聖任務, 這個立場絕不會變更。』在國民黨中常會中, 談話更進一步演成為『不接觸、不談判、不妥協』的三不政策。」請問: 這是為了因應何種變局所作出的政策?

- (A) 中國武力解放臺灣的宣示
(B) 中國改採和平統戰, 呼籲三通
(C) 中國成立海協會 (D) 中國進行飛彈試射。

3. () 根據以下資料, 何者敘述正確?

資料一: 第一憨, 種甘蔗乎會社磅。

資料二: 1905 年 6 月臺灣總督府規定: 為制止各製糖工廠間的原料爭奪, 避免擾亂蔗價, 各蔗作區畫定一定範圍的區域。此區域內的甘蔗未經許可, 不得運出區域之外, 或供作砂糖以外成品的製作原料。

- (A) 資料一的「會社」指的是外國人成立的洋行 (B) 資料二的規定, 可保障日資糖廠, 使其可低價收購甘蔗原料
(C) 這是在臺灣總督府實施「工業臺灣, 農業南洋」政策下的措施
(D) 使臺資的舊式糖廠在政府補助下轉型為新式糖廠, 帶動臺灣經濟發展

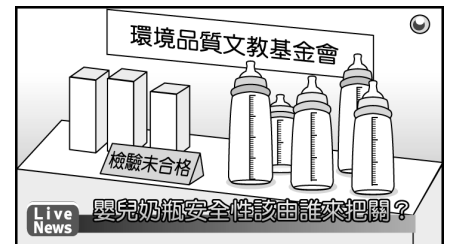
4. () 隨著兩岸民間交流密切, 書信、電信及轉口貿易逐年增加, 衍生問題日益複雜, 行政院乃成立專責機構, 協助處理中國事務。目前行政院所設置的兩岸事務專責機構為何?

- (A) 海峽交流基金會
(B) 海峽兩岸關係協會
(C) 國務院臺灣事務辦公室
(D) 大陸委員會。

5. () 一國的老年人口和幼年人口所占比例皆低, 則表示該國具有哪一種人口現象?

- (A) 出生率高、死亡率低
(B) 具生產能力的勞動人口較多
(C) 人口密度較高 (D) 自然增加率較高。

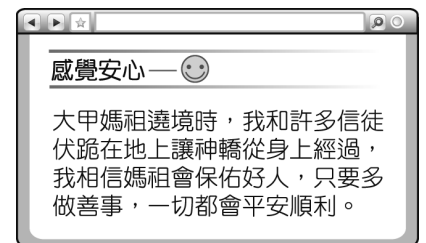
6. () 可寧看到一則新聞報導如



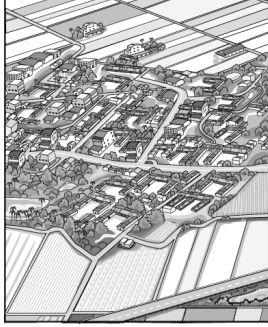
附圖。請問: 這則報導可以用來說明下列何者?

- (A) 公益團體對政府單位的監督
(B) 公益團體與政黨間的互助合作
(C) 公益團體與廠商的利益掛勾
(D) 公益團體以民意取代政策執行。

7. () 附圖是素傑分享的網誌, 由內容可知,



- 此應屬於哪一種社會規範?
(A) 宗教信仰 (B) 倫理道德
(C) 風俗習慣 (D) 法律。

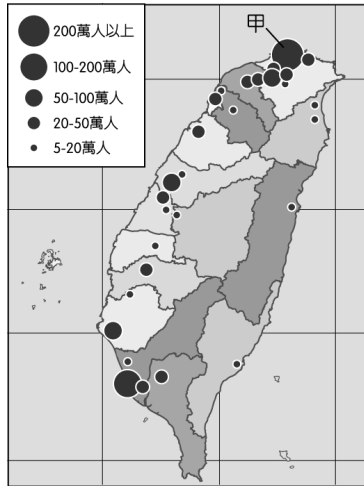
8. () 早期臺灣鄉村聚落型態受到建築物的分布狀況形成不同類型，附圖聚落類型中的自然環境最可能為下列何者？
- 
- (A) 水源眾多 (B) 治安良好
(C) 山丘遍布 (D) 平原廣大。
9. () 日治時期，在臺灣建立「殖民體制」基礎的民政長官為下列何人？
- (A) 莫那魯道 (B) 八田與一
(C) 兒玉源太郎 (D) 後藤新平。
10. () 行政院正積極推行區域發展相關計畫，希望降低各區域間的發展差異。目前離島地區若欲進行相關發展計畫，在產業發展方面以下列哪一項策略較為可行？(A) 規畫高科技工業園區 (B) 引進外勞從事加工出口業 (C) 輔導地方特色民宿及生態觀光活動 (D) 興建大型購物中心以吸引遊客。
11. () 1979年12月10日晚間，「國際人權日紀念大會」吸引了數以萬計的群眾參加。當『出發前往演講』的人群中，有人私自點燃火把，治安單位據此認定持火把遊行違背申請之約，於是開出了鎮暴車，擺出了鎮暴隊形，被圍在鎮暴部隊內的民眾人心惶惶，終於釀成一場警民大衝突。這次大衝突的結果，約有近百名憲警受傷……。」請問：促成此一事件的背景為何？ (A) 光復初期的族群衝突 (B) 戒嚴時期的黨外運動 (C) 解嚴後的民主改革 (D) 政黨輪替後的抗爭。
12. () 國民政府遷臺後，下列哪一項政策替臺灣的民主政治奠定初步的基礎？
- (A) 總統直選 (B) 政黨輪替
(C) 開放地方首長及民意代表的選舉
(D) 解除戒嚴。
13. () 臺灣依各地的特色分為四大區域，

但在發展過程卻出現了明顯的差異。請問：下列選項中，何者不是導致北部與東部區域差異的因素？

- (A) 人口的多寡 (B) 土地的面積
(C) 經濟的發展 (D) 教育的程度。

14. () 「出名鯉魚山亦有一支石雨傘，初鹿之夜牧場唱情歌，紅頭嶼、三仙臺美麗的海岸，……。」這是歌手沈文程獻給家鄉的一首歌，囊括了當地景點及特產。請問：這首歌描寫的是哪一個縣市？ (A) 宜蘭縣 (B) 花蓮縣 (C) 臺東縣 (D) 屏東縣。
15. () 交通所包含的內容分為運輸及通訊兩大部分，請問：下列生活中常見的交通方式，何者與其他三者不同？
- (A) 搭火車到臺北聽演唱會
(B) 利用電子郵件傳遞訊息
(C) 坐飛機至國外旅遊
(D) 貨櫃卡車裝載物品出口
16. () 捷運公司早期勸導旅客搭乘手扶梯時「靠右站立、左側通行」，後改為「緊握扶手、站穩踏階」，雖不再特別宣導靠右站立，但是民眾已經養成習慣，即使未宣導也主動向右靠。請問：上述的情形應為文化的何種層次？ (A) 器物層次 (B) 制度層次 (C) 理念層次 (D) 物質層次。
17. () 田健治郎來臺灣上任臺灣總督時，曾說：「我姓田，百家姓裡面也有，所以我和臺灣人都是一家人，對於臺灣人的處境我非常了解、非常同情。」這位首任文官總督的說法，是由於當時日本在臺灣推動哪一項政策？ (A) 內地延長主義 (B) 武裝殖民 (C) 皇民化運動 (D) 懷柔招降。
18. () 臺灣本島最高的農場——臺中市和平區的福壽山農場，海拔高度達1,800公尺以上，受到當地自然環境限制，其種植的作物最可能為下列何者？ (A) 稻米 (B) 芒果 (C) 茶葉 (D) 甘蔗。

19. ()附圖為臺灣主要人口聚集區的分布狀況，請根據圖中資料判斷，甲地區人口聚集最多的原因最可能是



下列何項優越條件所致？

- (A)汙染較少 (B)糧食產量豐
(C)氣候較溫暖 (D)工商較發達。
20. ()臺灣哪一個縣由於完全不靠海，再加上山地面積大，因此境內以茶葉生產為主？ (A)臺東縣 (B)屏東縣
(C)南投縣 (D)桃園市。
21. ()下列為臺灣某份刊物刊載的文章：

今日針對普及衛生思想，監督指導的單位須以身作則，首先應喚起市街庄行政人員的自覺，有效配合地方上保甲的力量。此外，藉由小學校、公學校對衛生教育的提倡、社會上報章雜誌的宣傳，來提升民眾的衛生意識。

根據內容判斷，此段文章主要在討論下列何者？〔106.會考〕 (A)荷蘭聯合東印度公司推動衛生教育 (B)中華民國政府規畫與施行衛生教育
(C)清朝開港通商時，傳教士引進公共衛生觀念 (D)日本統治時期，政府與民間推廣公共衛生觀念。

22. ()民國 60 年代時，臺灣為發展重工業，亟需相關的原料及動力資源，於是由國外引進礦產。請問：當時礦產主要由哪一個港口輸入？
(A)基隆港 (B)花蓮港
(C)高雄港 (D)臺中港
23. ()附表顯示日治時期某一年臺灣的教育狀況，從表中可看出當時的教育情

形為何？〔91.第一次基測〕

項目	基礎教育		中等學校 學生數 (人)	專門學校 學生數 (人)	高等學校 學生數 (人)
	學生數 (人)	學齡兒童 就學率 (%)			
日本人	23,711	98.2	477	6,856	220
臺灣人	210,272	28.4	251	4,642	28

- (A)臺人基礎教育較日人更為普及
(B)升學管道暢通，臺人紛紛入學
(C)臺人與日人都有平等的受教權
(D)臺人基礎教育不足且升學不易。

24. ()臺灣境內各地區的發展特色各不相同，附表有關東部區域和南部區域的比較中，何者正確？

	面積	人口	開發時間	地形特色
東部區域	面積較大	人口較多	開發較晚	平原廣布
南部區域	面積較小	人口較少	開發較早	山地起伏

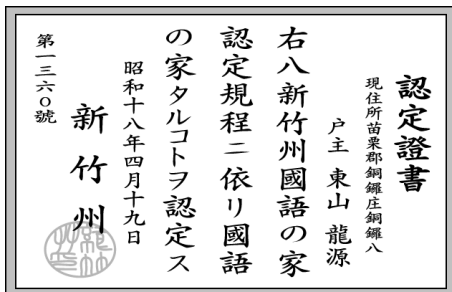
- (A)面積 (B)人口
(C)開發時間 (D)地形特色。

25. ()臺灣最早以輕工業活動為主要的產業類型，揭開了臺灣經濟發展的序幕。當時為發展輕工業，設立了下列何者？ (A)科學工業園區
(B)生物科技工業園區
(C)石化工業園區
(D)加工出口區。
26. ()《三國演義》中，諸葛亮原隱居於南陽從事田園工作，後因劉備三顧茅廬而深受感動，決心投效於劉軍麾下，成為提供戰略的顧問軍師。請問：若以今日的產業分類型態而言，則諸葛亮從事的產業類型變化應為何？
(A)第一級→第二級
(B)第二級→第三級
(C)第一級→第三級
(D)第三級→第二級。

27. ()宜蘭自從蔣渭水高速公路完工後，因為便捷的交通，吸引許多人前往度假，為當地觀光業的發展帶來龐大的收益。請問：該縣市位於臺灣哪一個區域中？ (A)北部區域 (B)中部區域 (C)南部區域 (D)東部區域。

28. ()近年來量販店在臺灣廣受歡迎，成為民眾主要前往的消費場所，此現象與其何種經營特色最為相關？ (A)分布密集 (B)產品高級 (C)量多價廉 (D)不受距離限制。

29. ()附圖是昭和 18 年（1943 年），由新竹州所頒訂的證書。請問：其說明日本當局的目的為何？

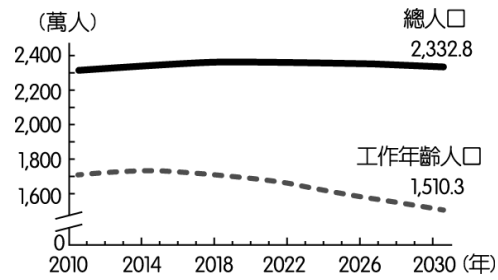


(A)讓臺灣人接受義務教育
(B)培養臺人效忠天皇的精神
(C)提高臺灣人地位
(D)培養臺灣人的職業技術。

30. ()我們若要分析一地每個有工作能力的人須扶養多少人口，最需要當地的哪一項人口組成特徵？ (A)性別組成 (B)年齡組成 (C)職業組成 (D)民族組成。

31. ()現今臺灣老一輩的人中，有的會說日語，有的還擁有日本姓名，這是因為在日治後期，總督府推動了哪一項政策？ (A)民族自決 (B)六三法 (C)皇民化運動 (D)保甲制度。

32. ()附圖為國家發展委員會預估的臺灣勞動人口占總人口數，若由圖中資料加以判斷，造成這種現象的主要原因為何下列何者？



(A)限制外勞移入 (B)傳統產業外移
(C)出生率漸減少 (D)男女比例不均

33. ()臺灣位於中南美洲的邦交國希望來臺汲取科學園區開發的經驗。請問：這些貴賓來臺時應該前往附圖中的哪一處參觀？



(A)甲 (B)乙 (C)戊 (D)庚。

34. ()下列的社會互動方式與其舉例之配對，何者錯誤？

(A)合作→啦啦隊的完美演出
(B)競爭→參與賽跑奪得冠軍
(C)競爭→綜合活動的小組分工
(D)衝突→因為政治立場不同而大打出手。

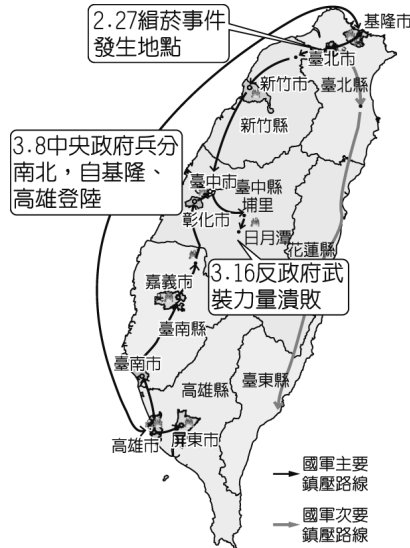
35. ()下為四個朋友在網路上聊天，依聊天內容判斷，何人的做法較為適當？

聊天室
小慈：我每個月都有繳健保費，所以沒病也要去看醫生。
小怡：上回氣爆，我去災區附近拿了很多免費的物資。
小茗：我找到工作後，就沒領政府的補助，把錢留給有需要的人。
小芷：我借用表弟的低收入戶資格，申請社會住宅，省了好多錢。

(A)小慈 (B)小怡
(C)小茗 (D)小芷。

36. () 第一次世界大戰後，臺灣知識分子推動一連串政治社會運動的主要動機為何？ (A) 促進臺灣經濟發展 (B) 發動革命，推翻日本的統治 (C) 反對不合理的殖民統治 (D) 改善臺灣民眾的生活習慣。

37. () 附圖是臺灣史上某一事件發生後，官方鎮壓的路線圖，此一事件為何？



- (A) 雷震事件 (B) 美麗島事件 (C) 二二八事件 (D) 霧社事件。
38. () 由以下秋雅的报告內容判斷，她報告的是何種層次的社會變遷？

- ◎教育由私塾學堂走向義務教育
◎政治由專制獨裁走向民主法治
◎各項交通法規的制定

- (A) 器物層次 (B) 制度層次 (C) 理念層次 (D) 物質層次。
39. () 目前臺灣所面臨的人口問題，主要為下列哪些？(甲) 人口分布不均 (乙) 人口自然增加率降低 (丙) 人口素質不高 (丁) 人口遷移頻繁 (A) 甲乙 (B) 丙丁 (C) 甲丁 (D) 乙丙。

40. () 產業活動依其特色分為三種不同類型。小明原先傳承父親的木雕事業，而後因經濟不景氣而轉為政府公務員。請問：他所從事的產業類別變化為下列何者？ (A) 第一級產業→第二級產業 (B) 第二級產業→第三級產業

- (C) 第一級產業→第三級產業 (D) 第二級產業→第一級產業。
41. () 今日受到臺灣社會經濟發展的影響，政府正積極推廣下列哪一種牧業活動，希望增加市場競爭力及牧民收入？ (A) 酪農業 (B) 游牧業 (C) 欄牧業 (D) 放牧業。
42. () 臺灣自民國 60 年代以來，累積了頗多的外匯，主要的因素為何？ (A) 出超、入超達成平衡 (B) 國際貿易呈現出超 (C) 國際貿易呈現入超 (D) 勞工薪資所得提高。
43. () 大陸棚內不但有豐富的魚類資源，也是石油、天然氣的蘊藏區。請問：大陸棚是指沿海水深多少公尺以內的地區？ (A) 100 m (B) 150 m (C) 200 m (D) 250 m。
44. () 根據附圖中的對話內容判斷，這應為何種文化層次的表現？



- (A) 規範層次 (B) 理念層次 (C) 制度層次 (D) 器物層次。
45. () 鄉村聚落中，集村與散村最大的差異為何？ (A) 房舍分布型態 (B) 道路分布型態 (C) 農田分布型態 (D) 水池分布型態
46. () 臺灣曾有一首童謠提到：「杏仁茶，看著警察誥誥爬，碗仔損破四五個，警察掠來警察銜，雙腳跪齊齊。大人啊，後擺不敢賣！」這首描寫臺灣人對警察無比敬畏情形的童謠，應是何時的寫照？ (A) 日治時期 (B) 清領時期 (C) 鄭氏時期 (D) 荷治時期。

47. ()正心國中的同學利用下課時間討論臺灣漁業現況，並針對漁業面臨的問題提出看法。請問：哪一位同學的說法最正確？(A)思妤：「養殖漁業超抽地下水問題以臺東最為嚴重。」(B)育陞：「沿岸漁業的船隻常誤入菲律賓海域，引起糾紛。」(C)佑丞：「限制捕撈範圍及時間才能解決漁源枯竭的問題。」(D)子皓：「屏東縣林邊鄉地區因為沿岸漁業發達，導致地層下陷，經常淹水。」

48. ()南投縣主要由於下列哪一項條件的影響，因此溼度較高，有利於茶葉的栽培種植，而成為我國著名的茶葉產區？(A)面積大 (B)地勢高 (C)距海近 (D)氣溫高。

49. ()臺灣工業轉型過程中，國民所得隨之改變。民國 38 年遷臺初期平均國民所得不到 100 美元，隨著工業化經濟一路躍升，在民國 70 年達到 2,669 美元，而民國 81 年突破 1 萬美元，正式進入工業化國家之列。請問：臺灣在突破 1 萬美元門檻時，主要的工業類型為何？(A)紡織業 (B)鋼鐵業 (C)石化業 (D)電子業。

50. ()以下是四位同學發表對「衝突」的看法，其中哪些人的看法較正確？

朱同學：「衝突只會造成負面的後果。」

劉同學：「價值觀念的差異可能會產生言語上或肢體上的衝突。」

李同學：「個人立場不同，無法相互妥協包容時，難免會發生衝突。」

魏同學：「衝突可以激發潛能，使自己更為進步。」

(A)朱同學與劉同學

(B)劉同學與李同學

(C)李同學與魏同學

(D)劉同學與魏同學。

51. ()曉慧整理日治時期臺灣政治社會運動資料如附表，她發現不管是哪一個

組織與活動大約都在 1930 年代時結束。請問：這些社會運動的沉寂最有可能是下列哪一個原因？

項目	起	迄
臺灣議會設置請願運動	1921 年	1934 年
臺灣文化協會	1921 年	1931 年
臺灣民眾黨	1927 年	1931 年
臺灣地方自治聯盟	1930 年	1937 年

(A)中日戰爭開打 (B)日臺合一政策的成功 (C)社會風俗的演變 (D)「工業日本，農業臺灣」政策的推行。

52. ()附圖是日治時期的一張宣傳海報，內容是「時間是金，時間不待，請互相遵守時間」。請問：這是哪一種運動的宣傳海報？



(A)放足 (B)斷髮 (C)守法 (D)守時。

53. ()臺灣傳統農業生產型態已逐漸改變，其原因有下列哪些？

(甲)加入 WTO (乙)農村人口老化 (丙)農業利潤高 (丁)生產成本降低

(A)甲乙 (B)乙丙

(C)丙丁 (D)甲丁。

54. ()下列是四位同學對於「社會規範」的說明，其中何人的觀念錯誤？

(A)橘子：違反風俗習慣雖不會受到公權力處罰，但仍具有一定的約束作用

(B)小清：違反倫理道德可能只會受到良心的譴責，但「亂丟垃圾的行為」因受到重視，而被制定成法律

(C)吉岡：宗教信仰是以明確的條文來約束人的行為

(D)片桐：政府可以透過一定的程序，給予違反法律的人適當的制裁。

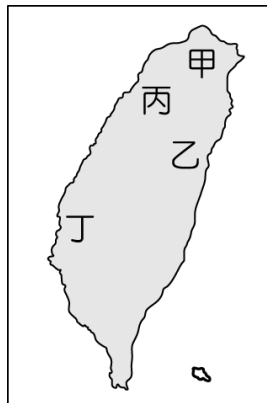
55. ()附表為民國 102 年臺灣各區域每人平均綜合所得的統計表，請根據表中資料判斷，北部區域最有可能為下列何者？

區域	每人平均綜合所得
甲	37.8 萬
乙	26.5 萬
丙	29.5 萬
丁	26.3 萬

(A)甲 (B)乙 (C)丙 (D)丁。

56. ()記者：「請問妳為何援交？」高中生小娟：「同學都有手機了，我若沒有手機會被瞧不起，而且這樣賺錢很快，我也可以自己繳學費，不用跟父母拿錢。」由上述對話可知，社會變遷帶來了何種衝擊？(A)價值觀念的混淆 (B)弱勢權益的忽視 (C)生活品質的下降 (D)貧富差距的擴大。

57. ()1950 年代初期，臺灣的甘蔗種植面積曾高達 12 萬公頃，但受到社會經濟結構轉變的影響，面積大幅縮減，土地也紛紛轉作其他用途。請問：若要觀察甘蔗田土地轉作的情況，應該前往附圖中何處？(A)甲 (B)乙 (C)丙 (D)丁。



58. ()有一段關於臺灣歷史的記載：「1895 年，李鴻章代表清朝政府到日本春帆樓簽訂條約，他雖然據理力爭，最後還是無奈的把臺灣割讓給日本……。」根據上文，下列何者是李鴻章當時所簽訂的條約？(A)《辛丑和約》 (B)《天津條約》 (C)《北京條約》 (D)《馬關條約》

59. ()政府遷臺以後，民主政治的實施，首先表現在哪一方面？(A)取消戒嚴令 (B)實施縣市地方自治 (C)中央民意代表增補選 (D)解除報禁與黨禁。

60. ()1934 年 6 月，日月潭發電所竣工，發電量高達 10 萬千瓦，但當時全臺發電量卻只需要四萬多千瓦。當時日本統治臺灣的工業發展主要是為因應下列何項政策？(A)內地延長主義 (B)民族自決 (C)南進政策 (D)工業日本，農業臺灣。

61. ()附表是臺灣某時期官方書籍所推薦當時北部地區參訪地點的整理，根據內容判斷，表中的「？」最可能是下列何者？〔105. 會考〕


參訪地點	性質
國語學校	教育機構
臺北郵政局（郵局）	通訊機構
臺灣神社	統治象徵
？	最高統治機關

- (A)臺灣府 (B)臺灣總督府 (C)臺灣省政府 (D)臺灣省行政長官公署
62. ()小琪想參加國中的校友會，會長告訴她這個社團是以聯絡校友的感情為目的，因此常舉辦各項活動。由此可知，「校友會」主要是屬於何種取向的團體？〔90. 第二次基測〕(A)工作取向 (B)性別取向 (C)興趣取向 (D)關係取向。
63. ()日治時期，總督府在臺灣推行農業改革，使臺灣稻米產量激增。這時期大量的稻米多輸往何地？(A)南洋各國 (B)荷蘭 (C)美洲 (D)日本。
64. ()臺灣的經濟發展主要以進出口貿易為主，因此海運對臺灣的發展相當重要。目前臺灣第一大港位於下列哪一個縣市？(A)臺中市 (B)基隆市 (C)臺南市 (D)高雄市。

65. ()今日通訊發展日新月異，方式更是多元變化，透過網路我們可以達成許多工作，下列敘述何者不正確？

- (A)進行數位學習 (B)參與視訊會議
(C)迅速往返於各大都市間 (D)與國外友人用通訊軟體 Line 連絡。

66. ()附圖的新聞報導中，這位阿嬤展現了現代公民的何種基本素養？



- (A)秉持尊重與理性
(B)促進公眾利益
(C)遵守公共秩序
(D)追求社會正義。

67. ()公營事業聯合招考新進員工 200 名，月薪優渥，吸引不少人應試，因此錄取率不到 3%。請問：若小慶也想要進入公營事業工作，他必須以何種互動方式達到目標？ (A)衝突 (B)競爭 (C)同化 (D)合作。

68. ()關於臺灣原住民的歷史與文化傳統，近年來逐漸獲得社會與政府的重視。請問：原住民取得法律保障其權益，是因哪一項法律的頒布？

- (A)《原住民族傳統法》 (B)《原住民族權益法》 (C)《原住民族正名法》 (D)《原住民族基本法》。

69. ()國民政府遷臺後致力於外交工作的推展，但卻一直有重重的阻力，使臺灣陷入外交困境。美國於何時與我國斷交，並廢除《中美共同防禦條約》？ (A)民國 60 年 (B)民國 62 年 (C)民國 68 年 (D)民國 76 年。

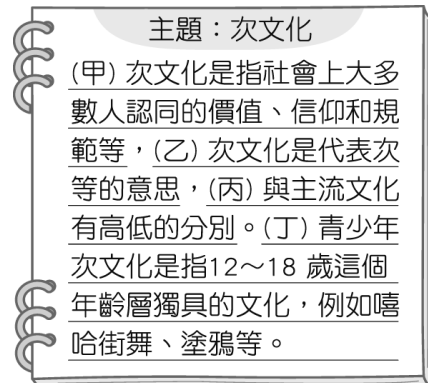
70. ()下列關於青少年時期同儕團體的敘述，何者錯誤？ (A)性格相近的人

容易聚在一起 (B)容易相互影響 (C)容易形成類似的價值觀 (D)是個人出生後最早接觸的環境。

71. ()聚落的發展受到地理位置的影響相當明顯，使得部分聚落出現都市化快速的現象，形成區域差異。請問：都市化快速指的是都市中何種人口變化的狀況？ (A)都市人口出生率快速 (B)都市人口自然增加率快速 (C)都市人口社會增加明顯 (D)都市就業率上升。

72. ()都市土地利用隨著時代的發展而轉變，例如原本位在臺北市中心的製酒工廠在規畫轉型時，考量其區域特色，轉變成下列何種用途較適合？ (A)煉油工廠 (B)農產品銷售中心 (C)文創藝文中心 (D)觀光休閒牧場

73. ()毅馨未詳查引用的資訊，因此撰寫的主題報告錯誤百出，如附圖，其內容當中只有哪一畫線部分完全正確？



- (A)甲 (B)乙 (C)丙 (D)丁。

74. ()附表為臺灣於 20 世紀初數個社會團體成立的情形。經過這些團體的努力，臺灣社會出現什麼樣的轉變？

會名	發起人	設立時間
臺北天然足會	黃玉階	1900 年 3 月
臺南天足會	許廷光	1900 年 6 月
基隆天然足會	許梓桑	1903 年 11 月
臺北解纏會	陳宇卿	1911 年 8 月
宜蘭解纏足會	黃張氏	1912 年 1 月
彰化解纏足會	楊吉臣夫人	1914 年 11 月
臺中解纏足會	林獻堂夫人	1914 年 12 月

(A)吸食鴉片人口大量減少 (B)婦女
便於從事生產工作 (C)民眾養成守
法守紀習慣 (D)臺灣甘蔗收購價格
提高。

75. ()從1921年至1934年間，臺人向日本政府共提出十多次請願，要求擁有自治權利，雖然並未達成預期的目標，但已喚醒臺灣人民的政治意識。當時臺人要求擁有自治權利的具體訴求為何？ (A)設置臺灣議會 (B)合法組織政黨 (C)改善公共衛生 (D)發行《臺灣民報》。

76. ()中國唐朝崇尚「豐腴」的女人，所以楊貴妃在唐朝時是第一美人；宋朝的審美觀則以「纖弱瘦小」為美，也開始有纏足的風氣。由上述各朝代所展現的審美觀可以發現，文化會隨著時代變遷而顯現出哪一項特徵？

(A)制約性 (B)普遍性
(C)差異性 (D)累積性。

77. ()下列何者是「社會福利」思想的基礎？ (A)大同世界 (B)生命平等 (C)社會正義 (D)社會互動。

78. ()附圖中，風紀股長阿德所面臨的狀況應為下列何者？



(A)校園霸凌 (B)性別歧視
(C)課業壓力 (D)角色衝突。

79. ()益信在樓梯口的布告欄看到一張里長發的通知單，如附圖所示。請問：通知單的內容為哪一項社會福利政策的措施？

布告欄

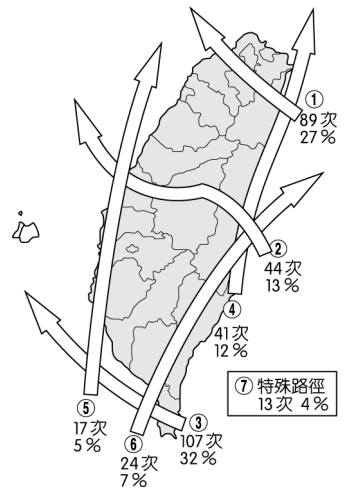
青年安心成家方案開始申請囉！
政府提供住宅貸款利息補貼及租金
補貼二大項，請符合資格的里民把
握機會，儘速申請。

(A)社會保險 (B)社會救助與津貼
(C)居住正義與社區營造 (D)健康與
醫療照護。

80. ()臺灣北部地區的農業活動以柑橘、梨子等水果的種植及茶葉的生產為主，稻米的生產量並不多。請問：最主要的原因為下列何者？

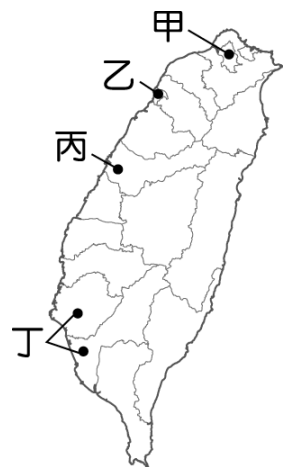
(A)山丘坡陡 (B)降水不足
(C)勞力不足 (D)面積狹小。

81. ()臺灣位於西太平洋上，每年都會受到颱風的侵襲，附圖為歷年侵臺的颱風路線圖。請問：哪一個區域受到颱風直接侵襲的機



率最高？(A)北部區域 (B)中部區域 (C)南部區域 (D)東部區域。

82. ()高科技產業為臺灣的經濟火車頭，創造了大量外匯存底，可說是產業界的臺灣之光。其主要的分布位置如附圖所示。請問：其中哪一園區為許多科技公司的總部，因此營業額為全國之首？



(A)甲 (B)乙 (C)丙 (D)丁。

83. ()附圖三人的對話內容，可用來說明下列哪一個概念？



- (A)文化差異 (B)文化傳承
(C)文化規範 (D)文化創新。

84. ()附圖是 1895 年清朝欽差大臣李鴻章與日本首相，雙方於日本簽訂割讓臺灣的條約。請問：此一條約的簽訂是因為下列哪一事件所造成？



- (A)牡丹社事件 (B)霧社事件
(C)甲午戰爭 (D)中法戰爭。
85. ()小清寫公民報告時，在人民團體中的「職業團體」類型舉了下列四個例子，其中何者錯誤？
- (A)中華民國製造業工業總會
(B)臺中商業銀行產業工會
(C)中華社會福利聯合勸募協會
(D)臺北市新聞記者公會。

86. ()民國 60 年代以後，臺灣社會由於哪一因素，人民對政治民主的要求提高，挑戰了政府的戒嚴統治，也促使「黨外」運動進入另一高潮？(A)宣布動員戡亂 (B)實行地方自治 (C)經濟、教育發展(D)廢除《臨時條款》

87. ()俗話說：「舉頭三尺有神明。」這是藉由下列哪一種社會規範來勸人為善？(A)倫理道德 (B)宗教信仰 (C)風俗習慣 (D)法律。

88. ()勝利國小在開班親會的時候，班上家長有來自越南及中國雲南地區，老師請他們向大家介紹家鄉當地的風土民情，讓這場班親會變得更加有趣。請問：這種多元現象和臺灣何種人口

成長因素的關係最大？

- (A)出生率增加 (B)死亡率下降
(C)移入率增加 (D)移出率減少。

89. ()1921 年臺灣文化協會成立，林獻堂、蔣渭水等人，試圖透過各種手段，讓臺灣人民在日本殖民統治下，受到應有尊重與權利，並提升文化水準。請問：此時正為日本治臺的哪個時期？(A)無方針主義時期，以寬猛互用的方式，籠絡臺胞，消弭反抗 (B)武力鎮壓時期，以軍隊強力鎮壓各地的武裝抗日活動 (C)內地延長主義時期，日本為進一步籠絡臺人，標榜「日臺合一」 (D)皇民化運動時期，要求臺人完全日本化，做真正的日本人。

90. ()在環保意識抬頭下，曉明看中可回收再利用的鋁罐商機無限，因此欲投資煉鋁工廠。請問：他此時需要考慮的區位條件主要為何？

- (A)鋁礦原料豐富 (B)勞工工資低廉
(C)動力充足便宜 (D)勞工素質較高

91. ()臺灣已步入高齡社會，而根據內政部的資料統計，目前全臺老年人口比例最高的縣市為嘉義縣，比例高達 18.61%。請問：造成嘉義老年人口比例高的主要原因可能為何？

- (A)醫療設備健全 (B)壯年人口外移
(C)自然環境純淨 (D)就業機會多。

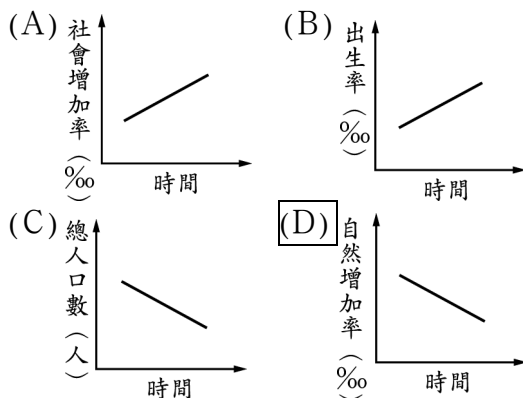
92. ()抗戰勝利後，國民政府明令全國動員戡亂，是因為當時國家正處於何種狀況？(A)抗日戰爭退敗 (B)二二八事件擴大 (C)中共全面發動內戰 (D)八二三炮戰發生

93. ()阿賓在一家餐廳外面看到一張告示，如附圖。這張告示隱含了下列何種觀念？

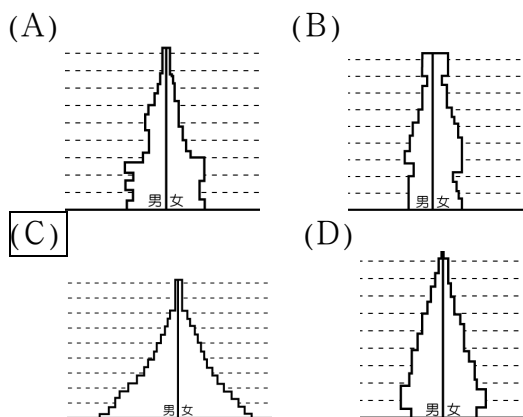


- (A)人際互動 (B)社會流動
(C)社會正義 (D)生態保育。

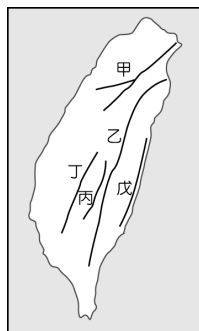
94. ()臺灣人口政策的口號由「兩個孩子恰恰好，一個不嫌少」轉變為「兩個孩子恰恰好，三個更熱鬧」。下列哪一個圖形最能用來說明上述口號轉變的原因？〔101.基測〕



95. ()根據路透社的報導，由於乾旱造成糧食作物普遍乾枯死亡，某地區正面臨嚴重的饑荒問題，聯合國估計當地約超過2千3百萬的災民需要援助，而居高不下的自然增加率使得該地區饑荒問題雪上加霜。根據上文的敘述判斷，該地區的人口結構呈現何種狀態？



96. ()圖中甲~戊為臺灣某地形的分布圖，請問：此地形最有利於何種傳統產業的發展？
 (A)農業 (B)林業
 (C)漁業 (D)牧業。



97. ()王永慶先生小學畢業後即到茶園當雜工，後來開店賣米，憑著經營能力，加上堅持與努力，成功打造了自己的企業王國，成為「臺

灣經營之神」。上述說明了下列何種現象？
 (A)社會流動 (B)社會文化
 (C)社會變遷 (D)社會運動。

98. ()中國文字是從遠古人類的圖畫，經年累月的簡化，演變成線條式的象形文字，再演變成現代的繁體文字。請問：上述顯示出文化的哪一項特徵？

(A)累積性 (B)普遍性
 (C)差異性 (D)制約性。

99. ()金門縣水頭商港因為往來船隻和旅客數量暴增，造成港口設備不敷使用，為促進當地經濟發展，已開始對此商港進行擴建工程。請問：往來金門的旅客大多來自何處？
 (A)日本
 (B)中國 (C)韓國 (D)泰國。

100. ()人口學上經常使用到「出生率、死亡率、移入率、移出率」等數值來表示該地區的人口變化情況，通常這些資料以下列何種單位來加以表示？

(A)十分率 (B)百分率
 (C)千分率 (D)萬分率。

101. ()日治時期，總督府養成臺灣人守法習慣的方法，下列何者錯誤？

(A)嚴密的警察制度 (B)宣傳教育現代法治觀念
 (C)軍隊嚴格鎮壓 (D)引進現代司法制度。

102. ()苗栗縣是客家族群較集中的地區，清代即以種植茶葉和樟腦外銷為主。以此推測，客家族群在臺灣的分布，主要集中於哪一種地形區？
 (A)平原 (B)高原 (C)丘陵 (D)盆地。

103. ()近來有一則新聞報導：五十年前，有一個人因高喊「毛主席萬歲」而被關。這是因為此人的言論觸犯了當時哪項法律的規定？

(A)中華民國憲法
 (B)戒嚴令
 (C)省縣自治法
 (D)動員勘亂時期臨時條款。

104. ()近年來，傳染性疾病出現的頻率增加，讓民眾十分恐慌，為避免疫情於國內擴散，政府加強一連串防疫措施。請問：上述為哪一項社會福利政策的內容？ (A)社會保險 (B)社會救助與津貼 (C)居住正義與社區營造 (D)健康與醫療照護。
105. ()依法律規定，人民團體可分為三種類型，下列哪一個的類型與其他三者不同？ (A)臺灣路竹醫療和平會 (B)中華民國保護動物協會 (C)中華民國一日志工協會 (D)時代力量。
106. ()清領時期臺灣主要都市有四：「一府二鹿三艋舺四月津」，其中「月津」即是今日臺南鹽水地區，近代以來，由於鐵路建設未通過鹽水，當地社會增加率逐漸出現負值，因而出現了下列何種情況？ (A)出生人口小於死亡人口 (B)出生人口小於移出人口 (C)移入人口少於移出人口 (D)移出人口少於死亡人口。
107. ()附圖中的詩句摘錄自某首描述臺東的新詩，詩中關於「太陽」的敘述，主要是與當地哪一項環境特性有關？〔100.第一次基測〕 (A)都市化程度低 (B)鄰近北回歸線 (C)位於臺灣東岸 (D)為板塊交接帶。
108. ()日治時期的臺北帝國大學，是現在哪一所大學的前身？ (A)師範大學 (B)臺北大學 (C)東京帝國大學 (D)臺灣大學。
109. ()民國 97 年，政府宣布實施哪一措施，使兩岸間的交流更頻繁？ (A)解嚴 (B)廢除《動員戡亂時期臨時條款》 (C)小三通 (D)大三通。


110. ()二二八事件發生後，對於日後臺灣歷史的發展產生了何種影響？ (A)經濟全面蕭條 (B)族群關係緊張 (C)教育逐漸發達 (D)外交陷入困境
111. ()我國政府提供多項社會福利政策以因應社會需求，附圖對話內容應屬於社會福利政策中的哪一項目？

臺中市政府全額補助國中小學生視障生的教育用書。

太好了！我們家的孩子都能因這項福利政策而受惠。

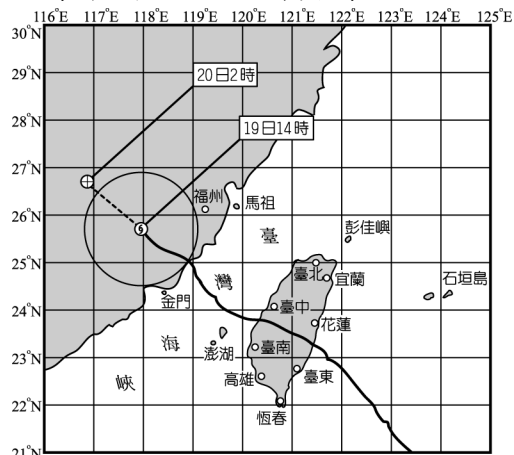


- 媽媽 爸爸
- (A)社會救助與津貼 (B)社會保險 (C)福利服務 (D)健康與醫療照護。
112. ()歷史老師將戰後政府在社會經濟方面重要措施的漫畫(如附圖)貼在黑板上，要求同學們按時間順序加以排列。請問：正確的順序應該是下列何者？

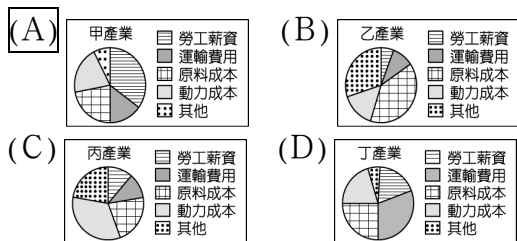


- (A)甲乙丙丁 (B)甲丙丁乙 (C)乙甲丙丁 (D)丁乙甲丙。
113. ()居住在馬祖的居民患了重病，需要到臺灣大型醫院急救，最適合採取何種交通方式？ (A)空運 (B)水運 (C)鐵路 (D)公路。
114. () (甲)南迴線 (乙)縱貫線 (丙)北迴線 (丁)臺東線 (戊)宜蘭線，以上是臺灣鐵路路線。小吳欲從屏東枋寮到苗栗頭份，如果打算以逆時針的方向搭火車。請問：小吳依序會經過哪些路線？ (A)甲乙丙丁戊 (B)甲丁丙戊乙 (C)乙丁甲丙戊 (D)戊乙甲丙丁。

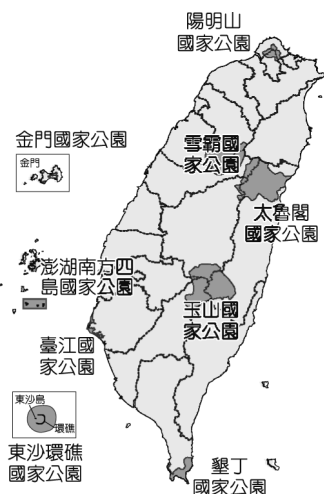
115. ()某次侵臺的颱風路徑如附圖所示，登陸時造成首當其衝的山脈出現土石滑落的災情，連當地的軍事基地都受到影響。若從圖中資料判斷，颱風登陸時哪一座山脈首當其衝？



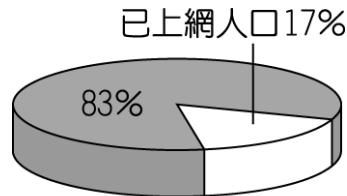
- (A)雪山山脈 (B)阿里山山脈
(C)中央山脈 (D)海岸山脈。
116. ()臺灣勞工的法定工作時數，自民國90年元旦開始，已從每週工作48小時縮減為42小時。在其他條件不變下，這項改變對下列哪一種產業原先的生產成本影響最大？〔94.第一次基測〕



117. ()國家公園是指具有國家代表性之自然區域或人文史蹟，內政部自1982年以來共設置了9座國家公園，保護了臺灣許多珍貴資源。請問：若以附圖中臺灣的國家公園分布圖判斷，哪一個區域的國家公園



- 數量最多？
(A)東部區域 (B)北部區域
(C)中部區域 (D)南部區域。
118. ()都市區域向外擴張，使都市和外圍市鎮緊密連成一體，形成一個高度發展的區域，這個區域稱為什麼？
(A)行政區 (B)都會區
(C)地形區 (D)商業區。
119. ()王同學在地理課本讀到附圖中的統計資料，若根據其內容加以判斷，目前所閱讀的主題最可能為下列何者？



全球上網人口比率

- (A)人口 (B)工業
(C)交通 (D)聚落。
120. ()臺灣某成立於日治時期之中學的創校紀念碑上刻著：「吾臺人初無中學，有則自本校始。」上述這所中學是今日的哪一所學校？
(A)建國中學 (B)臺中一中
(C)臺南一中 (D)臺南二中。
121. ()目前世界各國之間藉貿易交換有無，可能的原因有哪些？(甲)蘊藏資源不同(乙)種族膚色不同(丙)生產貨品不同(丁)宗教信仰不同
(A)甲丙 (B)乙丁
(C)丙丁 (D)甲丁。
122. ()為了降低生產成本，以提高產品競爭力，水泥工廠的設置區位條件應先考慮下列哪一個因素？
(A)原料產地 (B)市場需求
(C)技術設備 (D)交通方便。
123. ()下列哪一場抗日事件失敗，臺灣漢人武裝抗日行動大致停止，後來知識分子轉而採取非武裝的政治社會運動？
(A)臺灣民主國 (B)苗栗事件
(C)噶吧哖事件 (D)霧社事件。

124. ()清領初期，清廷曾頒布渡臺禁令，其部分內容如附圖所示。請問：這項政策實施後，對於當時臺灣的哪一項人口要素的影響最大？

壹、要欲渡海來臺者，先給原籍地方照單，經分巡臺廈兵備道稽查，依臺灣海防同知審驗批准，偷渡者將會受到嚴懲。

貳、渡臺者不准攜帶妻兒家眷。

- (A)社會增加率 (B)自然增加率
(C)人口死亡率 (D)人口出生率。
125. ()全球各地的客運與貨運主要包括水運、公路、鐵路及空運等方式，其中哪一種運輸方式適應地形的能力最強，也最普遍？ (A)海運 (B)公路
(C)鐵路 (D)航空。
126. ()筱蕾收到一則簡訊，如以下所示，其內容與下列何種社會規範有關？

本月 20 日起，開始處罰，騎機車或是開汽車的——請注意！！全國將實施紅燈越線處罰，凡是在等待紅燈時，超出白色禁止越線者馬上處以 900 元的罰款。

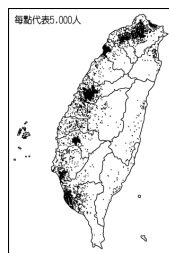
- (A)宗教信仰 (B)風俗習慣
(C)倫理道德 (D)法律。
127. ()正宇家裡很貧窮，幸好有「阿逗仔」對臺的援助，才得以溫飽。他常常穿著上有「中美合作」字樣的麵粉袋內褲，打著赤膊跑去迎接「阿逗仔」的軍隊，快樂地撿著他們給的罐頭食品。請問：此與哪一歷史事件有關？
(A)臺灣光復 (B)中美斷交
(C)韓戰爆發 (D)解除戒嚴。
128. ()下列是小麥在「社會規範」的報告中所提出的觀點，其中何者錯誤？
(A)任何社會規範都能發揮穩定社會的力量 (B)社會規範中，只有法律才具有強制力 (C)社會要達到和諧穩定，只須靠法律維持即可 (D)社會中的種種互動，應依循社會規範。
129. ()日治時期有一個義賊，某日逃到彰

化的鄉下地區。當地的警察會指揮何種組織來圍捕他？(A)自衛隊 (B)勇士團 (C)壯丁團 (D)義勇軍。

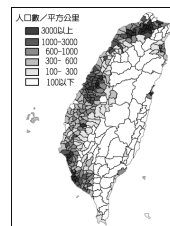
130. ()隨著社會的變遷，臺灣服務業的型態也隨之改變，如早期位於各街口的雜貨店，現今已被便利超商所取代。請問：下列有關雜貨店與超商的比較，何者正確？ (A)雜貨店營業時間較長 (B)雜貨店起源較早 (C)雜貨店商品種類較多 (D)雜貨店服務較多樣性。
131. ()根據附圖中的對話可知，閱讀方式的改變是受到下列何項社會變遷因素的影響？



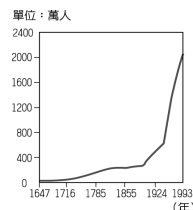
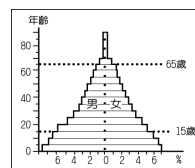
- (A)科技的創新發明 (B)外來文化的刺激 (C)自然環境的改變 (D)社會運動的推動。
132. ()人口變化可以反映出一地的經濟發展歷程及產業活動演變，下列哪一個圖表最適合用來判斷勞動人口多寡？ (A) (B)



(C)




(D)



133. ()日治時期，臺灣的產業發展原本局限於農業方面，工業化設施可謂寥寥無幾。後因日本政府哪一方面的需要，開始在臺灣推動工業化？

- (A)侵略南洋地區 (B)強化在臺統治
(C)標榜日臺合一 (D)培養忠誠皇民

134. ()附圖中機車騎士闖紅燈的行為將因違反下列何種社會規範而受到公權力處罰？



- (A)倫理道德 (B)風俗習慣
(C)宗教信仰 (D)法律。

135. ()下列關於「社會規範」的敘述，何者正確？ (A)目的是使社會生活產生紊亂 (B)可以提供人們行為遵循的方向 (C)完全無法約束人們的行為 (D)是人們無法認可或接受的行為標準。

136. ()四位朋友正在閒聊自己國家的文化特色。請問：下列何人的發言內容屬於該國的次文化？

- (A) 在我們國家，男性可以娶四個妻子。



阿德

- (B) 我們的青少年使用自己發明的「火星文」。



阿霖

- (C) 為遵守戒律，在我國是不能吃豬肉的。



阿昌

- (D) 我國可以吃豬肉，但是不能吃牛肉。



阿慶

137. ()洋蔥主要分布於高溫炎熱的氣候，且需要避免強勁的東北季風侵襲，以免造成損失。請問：若根據其生長條件加以判斷，附圖中何處最適合生產該作物？



- (A)甲 (B)乙 (C)丙 (D)丁。

138. ()臺灣北部區域的教育程度普遍較其他區域高，除了教育資源較為豐富外，也受到下列哪一項因素的影響，因此吸引高學歷的就業人口移入？

- (A)生活空間寬廣 (B)自然環境優美
(C)工商業較發達 (D)生活步調較為悠閒。

139. ()近年來，臺灣的經貿環境雖日益開放，但也深深衝擊傳統產業。因此，臺灣商人為了在市場上繼續競爭，於是紛紛到何處設廠投資？ (A)澳洲 (B)美國 (C)歐洲 (D)中國大陸。

140. ()勞動部對於颱風天勞工是否要出勤表示：「雇主應以安全為首要考量，如果有違反《勞動基準法》規定的狀況，勞工可撥打『1955』專線申訴。」依據《勞動基準法》，若雇主違反規定內容，所須承擔的處罰方式為下列何者？ (A)國家公權力的處罰

(B)超自然力量的處罰
(C)媒體的批評 (D)良心的譴責。

141. ()面對社會變遷所產生的衝擊，我們應該抱持何種心態？ (A)拒絕社會變遷 (B)不斷充實自我 (C)固守傳統 (D)隨波逐流。

142. ()以下為博傑的報告內容，關於(甲)、(乙)內容的說明，何者正確？

社會變遷報告

詐騙集團透過網際網路進行犯罪，政府因此(甲)制定法律加以規範，而個人應(乙)建立正確的使用觀念，學習尊重他人。

(A)(甲)屬於理念的改變 (B)(甲)屬於制度的改變
(C)(乙)屬於器物的改變
(D)(乙)屬於制度的改變。

143. ()以下是四位同學討論自己寒假期間所參加的活動。請問：何人參加的活動是發揮「追求社會正義」的基本素養？

建國：我熱愛參與社區舉辦的環保日活動。
小威：我參加白玫瑰運動，關心孩子的未來與安全。
欣欣：奶奶帶我參加廣東省同鄉會團拜活動
大亞：我擔任動物保護協會的志工。

(A)建國 (B)小威
(C)欣欣 (D)大亞。

144. ()小敏回憶道：「民國 60 年代的兩次能源危機使許多中小企業倒閉，幸賴政府推動某項經濟建設，協助產業界渡過災難」。請問：小敏指的「某項經濟建設」應是下列何項？

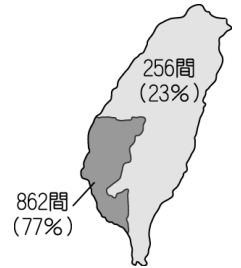
(A)十大建設 (B)政府積極拓展外銷
(C)全力發展高科技產業 (D)推動貿易自由化、國際化。

145. ()民國 34 年，臺灣知識分子對於「回歸祖國」均感到十分興奮，對新時代的來臨充滿期待。根據上述，他們所期待的「新時代」應該是指下列何種情況？ (A)政府宣布解嚴後，臺灣社會文化日趨多元與開放 (B)中華

民國政府遷臺，實施動員戡亂與戒嚴統治 (C)臺灣脫離日本殖民統治，由中華民國政府接收 (D)臺灣省政府積極將臺灣建設成現代化的社會。

146. ()在我國，人民擁有參與及組成團體的自由。不過，當有人濫用自由組織幫派犯罪時，將觸犯下列何項法律？ (A)《民法》 (B)《社會秩序維護法》 (C)《憲法》 (D)《組織犯罪防制條例》。

147. ()附圖為 1902 年臺灣某種主要出口商品的加工場所數量分布示意圖，根據其分布情形判斷，此種出口商品最可能為下列何者？〔103. 會考〕 (A)茶葉 (B)樟腦 (C)蔗糖 (D)鹿皮。



148. ()政府相關單位在擬定臺灣經濟發展的整體規畫時，發現東部區域的一些條件較本島其他區域差。請問：在進行評估後，東部區域指數較低的條件不包括下列何者？

(A)經濟發展 (B)人口密度
(C)生活空間 (D)教育程度。

149. ()中華民國海基會董事長辜振甫先生曾與中國大陸海協會會長汪道涵在民國 82 年舉行世人矚目的辜汪會談。根據當時的局勢來看，會舉辦辜汪會談應是屬於下列哪一階段的外交政策？ (A)彈性外交時期 (B)鞏固外交時期 (C)突破外交時期 (D)務實外交時期。

150. ()早期移民由中國福建沿海橫渡洶湧的黑水溝來到臺灣，因為航途凶險，因此在途中會經過的島嶼上建立了臺灣第一座媽祖廟。請問：此島嶼為何？ (A)綠島 (B)釣魚臺 (C)澎湖 (D)龜山島。

151. () 每個人從一出生就透過各種方式學習適當扮演自己的角色，這個過程就稱為「社會化」。附圖所示應是




透過下列何種方式來進行社會化？

- (A) 家庭 (B) 學校
(C) 傳播媒體 (D) 同儕團體。
152. () 根據經濟部統計，負責蘋果手機組裝的鴻海科技集團為臺灣營收總額最高的企業，而在營收最高的前十名中，有超過一半企業為科技廠商。請問：這反映出臺灣目前主要的工業活動特性為何？ (A) 原料豐富 (B) 工資低廉 (C) 交通便利 (D) 技術進步。

153. () 歷史老師在黑板上貼上如附圖的漫畫，用來講解臺灣史上的某個事件。請根據圖中的內容來看，這應該是指哪一事件？


我有符咒乩身，你們日本暴政必亡。



- (A) 苗栗事件 (B) 牡丹社事件
(C) 噶吧哖事件 (D) 霧社事件。

154. () 人類社會，不論是經濟高度發展的國家或是低度開發的部落，都有屬於自己的文化，可見文化具有下列何項特徵？ (A) 制約性 (B) 差異性 (C) 累積性 (D) 普遍性。

155. () 小波找到一幅日治時期的諷刺漫畫（如圖），圖中描述著為了改善日治初期臺灣財政不良，總督府藉由實施哪一商品的專賣，來獲取龐大的利潤？



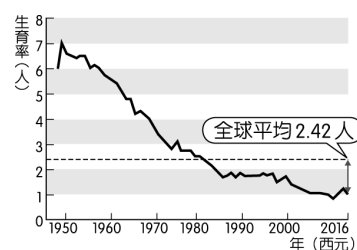
- (A) 茶葉 (B) 蔗糖
(C) 酒品 (D) 鴉片。

156. () 「七星潭」為花蓮著名的觀光景點，雖然名稱有「潭」，但卻是一個由大大小小的礫石所鋪陳的弧形海灣。請問：七星潭緊鄰著下列哪一海洋，常吸引許多遊客前來踏浪？

- (A) 巴士海峽 (B) 印度洋
(C) 臺灣海峽 (D) 太平洋。

157. () 臺灣所規畫的地方生活圈，計畫提供同一個地區的居民能夠獲得工作、就學等基本需求，以求達到均衡區域發展、縮小區域差異的目標。請問：政府近年來進行的交通建設中，哪一項最具有促進生活圈內部整合的功能？ (A) 臺灣高鐵 (B) 捷運系統 (C) 福爾摩沙高速公路 (D) 中山高速公路。

158. () 人口的變化狀況影響國家發展甚鉅，因此必須及早規畫



- ，才可因應未來的發展。附圖為臺灣生育率變化圖，由此圖資料判斷，相關單位應及早規畫哪些方式以因應變化？ (A) 廣設幼稚園，提供充足學習環境 (B) 補助婦女生育，推動小班制教學 (C) 引進加工產業，增加女性就業機會 (D) 提倡男女平等，破除重男輕女觀念。

159. ()瑞荷：「我剛當選為(甲)糕餅商業同業公會的幹部，明天還應邀到(乙)中國國民黨參加餐敘。」明禮：「我也是(丙)漁會的幹部，雖然很忙，但還是常參加(丁)中華單車文化協會舉辦的活動，鍛鍊一下體力。」上述對話中提及的團體，何者屬於「社會團體」？ (A)甲 (B)乙 (C)丙 (D)丁
160. ()臺灣近年來國外豪華房車的市場銷售量屢創佳績，銷售至北部區域的進口車在下列哪一個縣市的港口卸貨最為適合？ (A)新竹市 (B)臺中市 (C)高雄市 (D)基隆市。
161. ()臺灣五大都會區分別為臺北基隆、桃園中壢、臺中彰化、臺南、高雄，其共同特徵有：(甲)第二、三級產業人口比例高(乙)農業人口比服務業人口多(丙)皆位於臺灣西部地區(丁)人口數皆因自然增加所致。以上敘述何者正確？ (A)甲乙 (B)丙丁 (C)甲丙 (D)乙丁。

二、題組，共 39 題，

框起來的選項為答案

1. 「十大建設」曾使臺灣的經濟發展極為迅速，也使臺灣度過了當時所面臨的經濟不景氣。請問：
- () (1) 哪一項全球經濟危機促使政府推動「十大建設」？ (A)能源危機 (B)美伊戰爭 (C)波斯灣戰爭 (D)全球通貨膨脹。
- () (2) 當時政府推動「十大建設」的目的為何？ (A)吸引外資投資刺激景氣復甦 (B)避免中國資金進入臺灣 (C)利用大型公共工程建設刺激景氣復甦 (D)引發通貨膨脹以減低消費欲望。
2. 日本統治臺灣之後，引進日本資金，建立現代化產業，並積極展開新的經濟建設。請問：
- () (1) 下列何者是臺灣總督府為了推動

殖民經濟所做的措施？ (A)進行全面的人口普查，建立完整戶籍制度 (B)派學者調查臺灣土地、山林，以控制原住民 (C)將糧食作物的培育全面改為種植經濟作物 (D)在臺灣成立銀行，發行新臺幣。

- () (2) 下列何者是日治時期總督府的交通建設？ (A)購買輪船往來於臺灣、東南亞、中國之間 (B)開鑿三條聯絡東部的道路 (C)基隆、高雄兩港的整建 (D)完成基隆到臺東間的鐵路。
3. 阿翔參加南投公益小旅行，參觀位於南投水里的大觀發電廠，發現大觀發電廠的前身為日月潭發電所，最早興建於日治時期，整個工程將濁水溪與日月潭連貫起來，形成一個完整的水利供電系統。請問：
- () (1) 當時日本興建日月潭發電所，是由於哪一政策的實施？ (A)農業臺灣，工業日本 (B)農業南洋，工業臺灣 (C)日臺合一 (D)土地與林野調查。
- () (2) 當時日月潭發電所完工後，對臺灣最大的幫助為何？ (A)臺灣成為日本重要糧食生產基地 (B)臺灣總督府可以將埔里盆地變成重要蔗糖產區 (C)臺灣成為日本重要農業補給基地 (D)臺灣得以發展機械、造船、石化等工業。
4. 對於戰後臺灣的文化發展，課本上有如下一段的敘述，請問：
- 民國 60 年代，我國的內政與外交面臨嚴厲挑戰，而經濟起飛也造成城鄉差距擴大等問題，一些知識分子開始關懷本地人民的生活，……。
- () (1) 民國 60 年代，我國內政所面臨的主要問題，在於人民對政治民主的要求提高，挑戰了政府的戒嚴

統治。下列哪一事件的發生即是肇因於此？

- (A)二二八事件 (B)雷震事件
(C)美麗島事件 (D)霧社事件。

() (2)民國 60 年代，我國在外交上發生了哪兩件重大挫折，使我們面臨嚴厲挑戰？

- (A)加入 WTO 被拒 / 中美斷交
(B)加入聯合國被拒 / 中美斷交
(C)退出聯合國 / 加入 WTO 被拒
(D)退出聯合國 / 中美斷交。

() (3)臺灣的經濟起飛，主要是政府遷臺後推動一連串政策的成果，但 60 年代初期，也曾面臨能源危機的衝擊。請問：當時政府推動何項政策渡過此一危機？

- (A)進口替代 (B)出口導向
(C)十大建設 (D)產業升級。

() (4)對於民國 60 年代的景況，知識分子開始關懷本地人民的生活，也因而掀起了下列何項運動？

- (A)重視西洋文化運動 (B)中華文化復興運動 (C)原住民的正名運動
(D)鄉土文學創作運動

5. 自國民政府播遷來臺，臺灣由初期的實施戒嚴到近年來的總統民選，民主政治的發展，令世界刮目相看。請問：

() (1)國民政府於何時播遷來臺？

- (A)民國 34 年 (B)民國 35 年
(C)民國 38 年 (D)民國 39 年。

() (2)發布《戒嚴令》的是下列何人？

- (A)蔣經國 (B)蔣中正
(C)陳誠 (D)陳儀。

() (3)臺灣的民主化過程中，解嚴是個重要關鍵，其主要內容為何？

- (A)推動彈性、務實外交
(B)直選總統、副總統
(C)廢除黨禁、報禁
(D)改選中央民意代表

() (4)政府遷臺後的第一任民選總統是下列何人？

- (A)蔣中正 (B)李登輝
(C)蔣經國 (D)陳水扁。

6. 日治時期，臺灣總督府推行一連串的生活改造運動，使臺灣人民生活獲得大幅改善。請問：

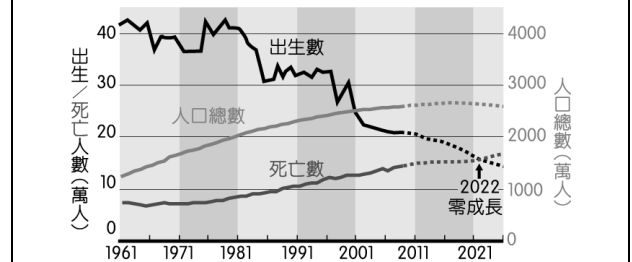
() (1)總督府在統治臺灣初期，認為臺灣有哪三大陋習？(甲)無時間觀念(乙)辮髮(丙)纏足(丁)吸食鴉片

- (A)甲乙丙 (B)甲乙丁
(C)甲丙丁 (D)乙丙丁。

() (2)總督府推廣現代醫療衛生觀念，所帶給臺人的影響不包括下列何者？ (A)注重環境清潔 (B)死亡率下降
(C)出生率下降 (D)人口激增。

7.

請根據附圖「臺灣人口成長率預測圖」，回答下列問題。



() (1)臺灣人口增加速度在 2000 年後趨於和緩，主要原因為何？

- (A)醫療衛生進步 (B)重大天災頻仍 (C)流行疾病疫情
(D)出生率降低。

() (2)從 1960 年代到 1980 年代間，因應臺灣人口增加幅度迅速，當時政府提出的家庭計畫口號最不可能是下面何者？

- (A)增產報國
(B)子女少，幸福多 (C)兩個孩子恰恰好，一個不嫌少 (D)兩個孩子恰恰好、女孩男孩一樣好

8. 某一外國政府擔心線上電玩遊戲會誘發未成年人的暴力傾向，因此以法律禁止販售具暴力內容的電玩遊戲，此舉引發玩家們

的反彈，有民眾認為政府要杜絕未成年人的暴力傾向，不是著力於電玩遊戲的管制上，而是應該關注父母親的暴力行為對孩子潛移默化的影響力。請問：

- () (1) 根據上文，該國政府的禁令應是針對下列哪一社會化途徑產生的不良效應而發布的？
 (A) 傳播媒體 (B) 同儕團體
 (C) 學校 (D) 家庭。
- () (2) 根據上文，民眾認為政府應關注於哪一社會化途徑的影響？
 (A) 傳播媒體 (B) 同儕團體
 (C) 學校 (D) 家庭。
9. 1960 到 1980 年代，臺灣曾是國際知名的製傘王國。興盛時，全球每 4 把傘就有 3 把出自臺灣，一年最高可替國家賺進新臺幣 120 億元。直到今天，臺商仍掌握了全球 30% 的兩傘產量。同時，我們也看到許多老闆開始願意花時間、心力，講究創意和品質，甚至讓傘具做得更像是時尚精品，成功爭取了國際市場的目光。請問：
- () (1) 臺灣「製傘王國」的美名，是因為當時政府推動哪種經濟政策而促成的？
 (A) 出口導向 (B) 發展高科技產業
 (C) 進口替代 (D) 十大建設。
- () (2) 下列何者是此一時期政府推動經濟發展的措施？
 (A) 設立加工出口區 (B) 設立科學工業園區
 (C) 加入世界貿易組織 (D) 加入亞太經濟合作會議。
10. 2017 年臺北世大運是臺灣有史以來舉辦過最大型的運動賽，而我國選手非常爭氣，表現優異，交出 26 金、34 銀、30 銅的空前佳績，讓選手們長期以來的苦練終於獲得成果；尤其羽球團體項目更發揮團隊精神，奪下臺灣參賽世大運以來第一面混團金牌。請問：
- () (1) 各國隊伍爭取比賽名次，此為下列何種社會互動方式？

(A) 順應 (B) 競爭

(C) 衝突 (D) 合作。

- () (2) 根據上文，我國選手發揮團隊精神，此為下列何種社會互動方式？
 (A) 合作 (B) 同化
 (C) 順應 (D) 競爭。

- () (3) 選手為獲取比賽榮譽而長年苦練，此為下列何種社會互動方式？
 (A) 同化 (B) 合作
 (C) 順應 (D) 交換。

11. 日治時期，警察有很大的權威，專替總督府管理臺灣人民，誰也得罪不起，因此被臺灣人叫做「大人」。他們除了維持治安，還會做嚴密的戶口調查，嚴密掌握人民的戶籍情況，每週還會挨家挨戶做清潔檢查，若是檢查沒通過的人家，門口就會被貼上白色的大條子，讓臺灣人逐漸養成定期清潔家屋的習慣。請問：

- () (1) 下列何者是日治時期警察的工作內容？
 (A) 最高決策 (B) 發行貨幣
 (C) 衛生監督 (D) 開發資源
- () (2) 下列何者是日治時期輔佐警察執行公務的組織？
 (A) 總督府
 (B) 保甲 (C) 神社 (D) 國語家庭。

12. 有一份聯合國的決議案裡提到：「大會回顧《聯合國憲章》的原則，考慮到恢復中華人民共和國的合法權利，……承認中華人民共和國政府的代表是中國在聯合國組織的唯一合法代表，……決定恢復中華人民共和國的一切權利，承認它的政府代表為中國在聯合國組織的唯一合法代表。」請問：

- () (1) 這份決議案是在何時提出的？

(A) 1949 年 (B) 1958 年

(C) 1971 年 (D) 1987 年。

- () (2) 承第(1)題，當時我國是由何人擔任總統？
 (A) 陳水扁 (B) 李登輝
 (C) 蔣經國 (D) 蔣中正。

- () (3)此一決議文通過後，使我國外交政策出現什麼樣的轉變？
 (A)依賴美國程度加深 (B)加強封鎖中國大陸 (C)改採彈性外交政策，重視發展實質關係
 (D)斷絕所有與友邦的外交關係

- () (4)這份決議文對我國的衝擊為何？
 (A)通貨膨脹嚴重 (B)國際外交孤立 (C)族群關係緊張 (D)經濟轉型困難。

13. 陳澄波是臺灣在日治時期培養出來的第一代西洋畫家，是第一位以油畫作品入選日本「帝國美術展覽會」的臺灣人。二二八事件爆發時，陳澄波正擔任嘉義市參議員，他和嘉義地方士紳成立組織，並與成員出面調停，嘗試和軍隊溝通，不料卻被拘押，在嘉義火車站前公開槍決。請問：

- () (1)二二八事件爆發當下，統治臺灣的最高職位為何？ (A)行政長官 (B)臺灣總督 (C)臺灣省省長 (D)臺灣巡撫。

- () (2)二二八事件發生時，陳澄波和地方人士成立的調停組織為何？
 (A)臺灣民眾黨 (B)臺灣文化協會 (C)臺灣地方自治聯盟
 (D)二二八事件處理委員會。

14. 1920年起，臺灣啟蒙運動群英如林獻堂、蔣渭水等人，從事政治、社會、文化運動，喚起了臺灣人的自覺。請問：

- () (1)依上文，臺灣的思想啟蒙運動在哪一個歷史事件之後展開？
 (A)甲午戰爭 (B)中法戰爭
 (C)第一次世界大戰 (D)第二次世界大戰。

- () (2)當時何人積極從事臺灣議會設置請願運動，主張採溫和方式進行抗爭，堪稱「臺灣議會之父」？
 (A)林獻堂 (B)羅福星
 (C)蔡培火 (D)賴和。

- () (3)當時何人以醫生的專業，診斷出臺人是世界文化低能兒，需要投以極大量的知識作為處方？
 (A)林獻堂 (B)蔣渭水
 (C)蔡培火 (D)賴和。

- () (4)承第(3)題，為了醫治臺灣人民的「缺乏知識的營養不良症」，而不斷舉辦演講會、短期講習會、電影放映會、開辦夏季學校等，這是哪一個團體的成就？
 (A)臺灣民主國 (B)臺灣文化協會 (C)臺灣民眾黨 (D)臺灣總督府。

15.

臺灣鐵路的歷史已有一百餘年。請參考附圖選出最合適的選項。



- () (1)阿龍從基隆上車，要到新竹下車。請問：基隆到新竹這段鐵路，早在什麼時期就已經完工？
 (A)鄭氏時期 (B)清領前期
 (C)清領後期。

- () (2)住在基隆的小慧，也想搭火車去探望住在高雄的外婆。請問：由基隆到高雄這段鐵路是在何時完成？ (A)19世紀後期 (B)20世紀初期 (C)20世紀後期。